


# Yuks Praktik 1



Geserlah satu siswi dibawah ini ke siswi yang ada di sudut tongkat menjadi FORMASI SUDUT BERTOLAK BELAKANG



Geserlah satu siswa dibawah ini ke siswa yang ada di sudut tongkat menjadi formasi SUDUT BERPELURUS



# Yuks Praktik 2




Geserlah satu siswi dibawah ini ke siswi yang ada di sudut tongkat menjadi Formasi SUDUT SEHADAP



Geserlah satu siswa dibawah ini ke siswa yang ada di sudut tongkat menjadi formasi SUDUT LUAR BERSEBERANGAN



# Yuks Praktik 3



Geserlah satu siswi dibawah ini ke siswi yang ada di sudut tongkat menjadi FORMASI SUDUT LUAR SEPIHAK




Geserlah satu siswa dibawah ini ke siswa yang ada di sudut tongkat menjadi formasi SUDUT DALAM SEPIHAK



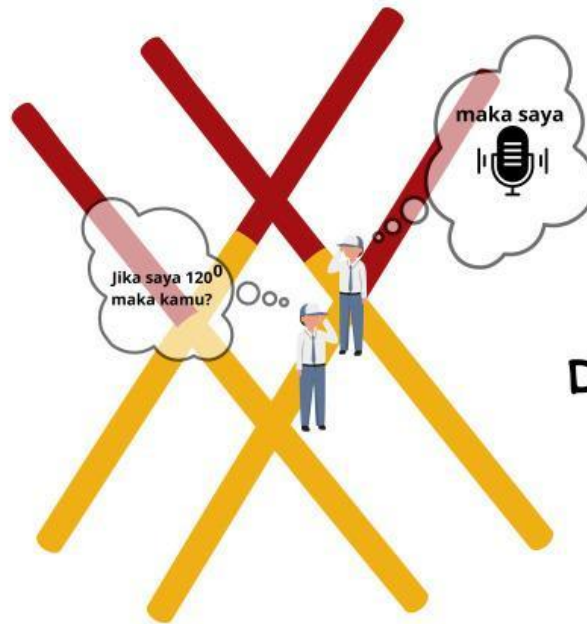
# Yuks Praktik 4

Geserlah satu siswi dibawah ini ke siswi yang ada di sudut tongkat menjadi Formasi SUDUT DALAM BERSEBERANGAN



# Yuks Praktik 5

Sebutkan besar sudut yang ditanyakan



Formasi  
Dalam Sepihak

# Yuks Praktik 6

Sebutkan besar sudut yang ditanyakan

Formasi  
Berpelurus

0

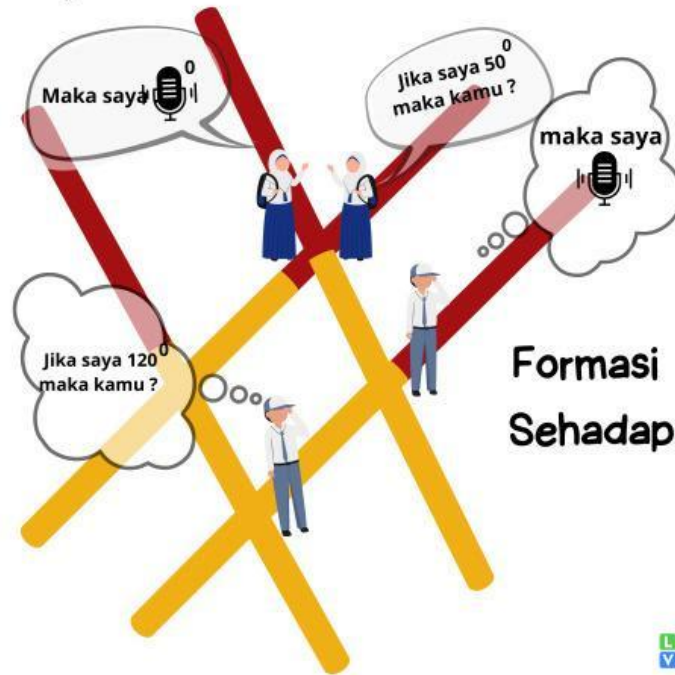


# Yuks Praktik 7

## Formasi Bertolak Belakang

Sebutkan besar sudut yang ditanyakan

0

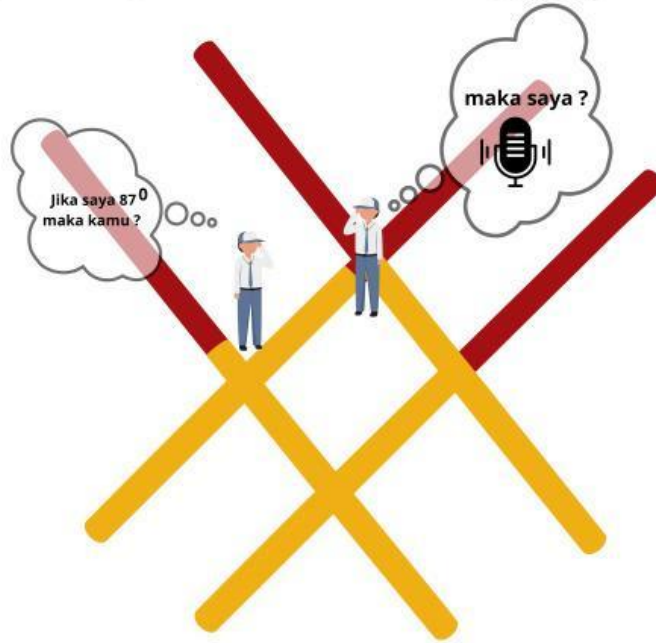


# Yuks Praktik 8

Formasi

Sebutkan besar sudut yang ditanyakan

Sudut Dalam Berseberangan



 **LIVEWORKSHEETS**



# Yuks Praktik 9

Sebutkan besar sudut yang ditanyakan

Formasi

Sudut Luar Berseberangan

