

Lembar Kerja Peserta Didik

LKPD

Rantai Makanan

Nama : _____

Kelas : _____



Perhatikan video berikut !


“

”

Apa yang dimaksud dengan rantai makanan ? Jelaskan !

RANTAI MAKANAN

Selesaikanlah teka-teki silang dibawah ini!



Mendatar

- 1 Mengurai bangkai makhluk hidup.
- 6 Dibutuhkan tumbuhan untuk proses fotosintesis.
- 7 Makhluk hidup yang berperan sebagai produsen.
- 10 Makhluk hidup yang memakan daging dan tumbuhan.

Gunakan petunjuk di atas untuk menyelesaikan teka-teki silang

Menurun

- 2 Makhluk hidup pemakan daging.
- 3 Dapat menghasilkan makanannya sendiri.
- 4 Makhluk hidup pemakan tumbuhan.
- 5 Makhluk hidup yang memakan makhluk hidup lainnya.
- 8 Hasil penguraian dekomposer yang membuat tanah menjadi subur.
- 9 Makhluk hidup yang berperan sebagai dekomposer.

RANTAI MAKANAN

Cari kata yang berkaitan dengan rantai makanan berikut ini!

J	K	M	P	A	D	I	O	P	E
K	H	A	R	U	L	A	T	O	P
D	E	K	O	M	P	O	S	E	R
B	W	A	D	T	S	T	A	H	A
U	A	N	U	T	R	I	S	I	N
K	N	A	S	D	S	N	Y	W	T
U	N	N	E	N	E	R	G	I	A
R	K	O	N	S	U	M	E	N	I

KONSUMEN

RANTAI

ENERGI

PRODUSEN

MAKANAN

TUMBUHAN

DEKOMPOSER

NUTRISI

HEWAN

Klasifikasi Hewan Berdasarkan Jenis Makanan

Tarik garis gambar hewan sesuai dengan kelompok jenis makanannya.

Herbivora



Omnivora



Karnivora



Herbivora



Omnivora



Karnivora



RANTAI MAKANAN

Amatilah gambar rantai makanan berikut dan letakkanlah kotak pada posisi yang tepat!

Produsen

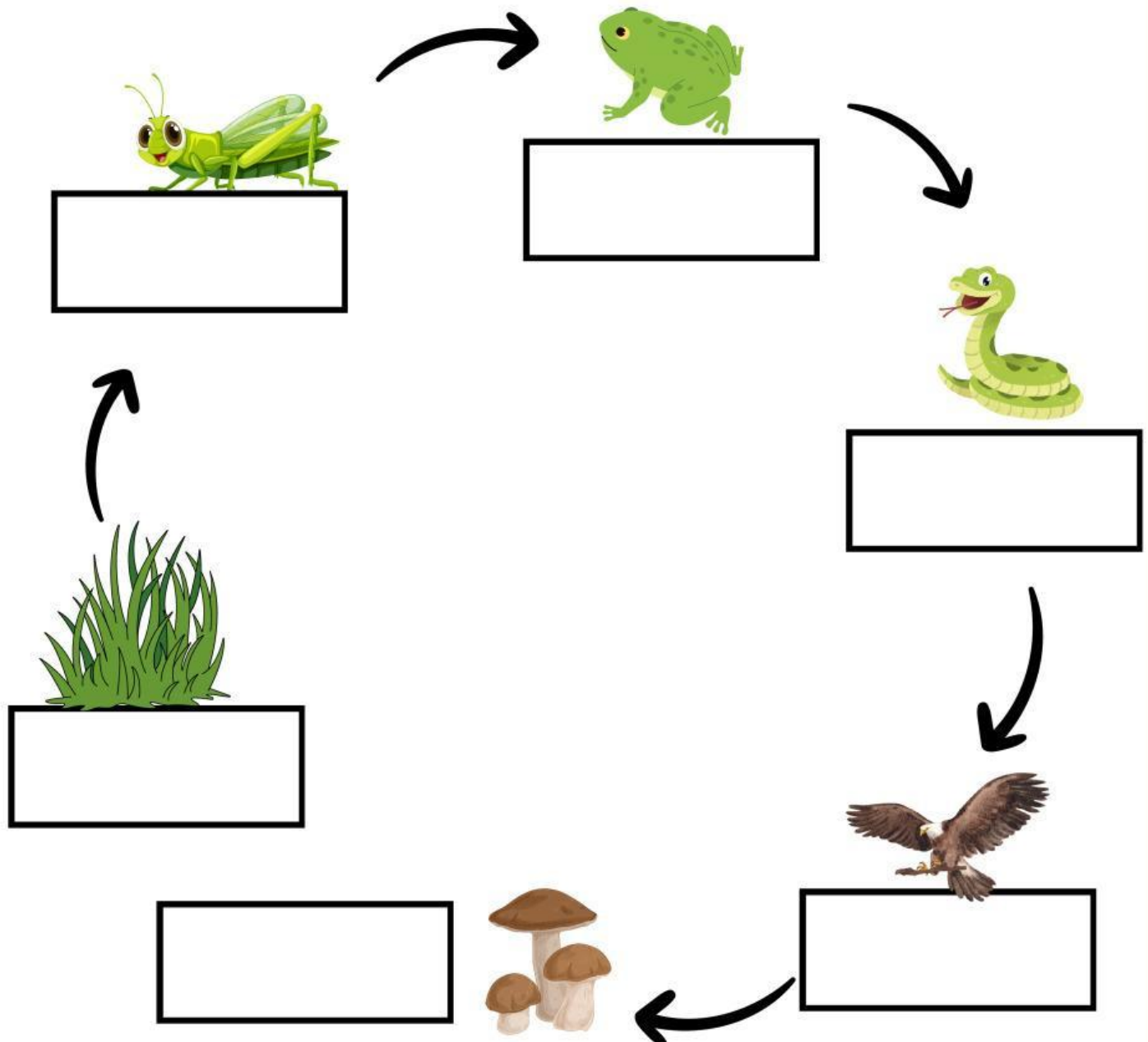
Konsumen Primer

Konsumen Sekunder

Konsumen Tersier

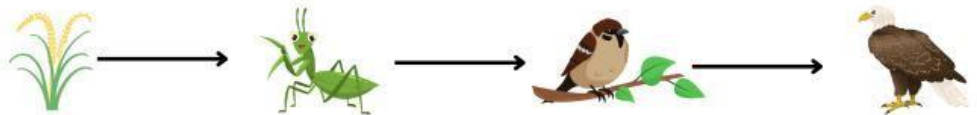
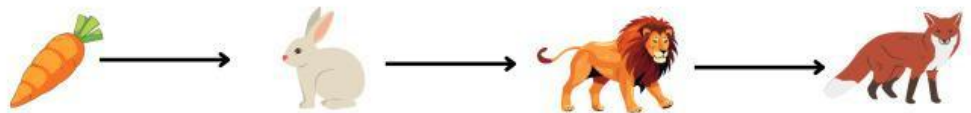
Konsumen Final

Dekomposer



RANTAI MAKANAN

Perhatikan rantai makanan di bawah ini! Beri tanda centang pada kotak, jika urutan rantai makanan benar!

☐☐☐☐☐