

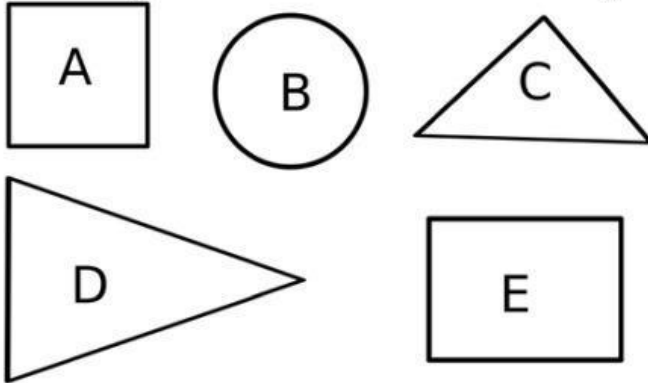
Matematika Bangun Datar

Nama : _____ :



Tanggal _____ ✨

Pilihlah jawaban yang benar dengan (X) a, b, c dibawah ini!

Perhatikan gambar di bawah ini untuk mengisi soal nomor 1 – 5!



- gambar A adalah menunjukkan bangun
 - segitiga
 - segiempat
 - segilima
- gambar B adalah menunjukkan bangun
 - lingkaran
 - segiempat
 - segitiga
- gambar C adalah menunjukkan bangun
 - segitiga
 - segiempat
 - lingkaran
- bangun segitiga ditunjukkan gambar
 - A dan B
 - C dan D
 - A dan E
- bangun segiempat ditunjukkan gambar
 - C dan D
 - A dan D
 - A dan E




6. contoh benda yang biasanya berbentuk segiempat adalah

- a. roda mobil
- c. matahari
- c. meja belajar

7. contoh benda yang biasanya berbentuk lingkaran adalah

- a. kotak pensil
- b. roda sepeda
- c. kardus makanan



8. ● ●

titik-titik di atas jika dihubungkan dengan garis maka akan membentuk bangun

- a. segitiga
- b. segiempat
- c. lingkaran

9. ●



titik-titik di atas jika dihubungkan dengan garis maka akan membentuk bangun

- a. segitiga
- b. segiempat
- c. lingkaran

10. andi membeli buku

buku tersebut berbentuk

- a. segiempat
- b. segitiga
- c. lingkaran

