

Nama: _____

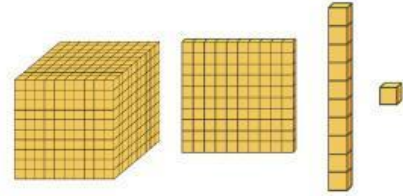
Kelas: _____

Tanggal: _____

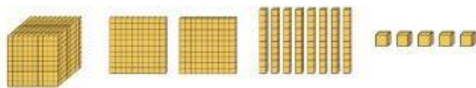
Nilai Tempat Suatu Bilangan

Hitunglah berapa banyak bar model (ratusan, puluhan, dan satuan) yang ada pada setiap nomor. Kemudian, tuliskan hasil hitunganmu pada bagian yang sudah disediakan.


Lalu, coba **refleksikan**, Apa yang bisa kamu simpulkan saat menentukan hasil penghitunganmu? Apakah fungsi dari bar model? Apakah lebih banyak blok ribuan/ratusan/puluhan/satuan berarti nilai bilangan itu lebih besar? Atau sebaliknya?



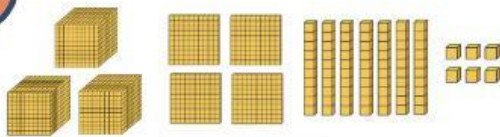
1




2




3



4



5



Refleksi

NILAI TEMPAT SUATU BILANGAN


Halo, teman-teman! Kita akan bermain menukar bar model untuk membeli barang!

Langkah-langkah:


- **Hitung Bar Model:** Lihat gambar bar model yang dimiliki setiap tokoh. Hitung jumlah bar modelnya.
- **Cek Harga Barang:** Lihat daftar harga barang,
- **Tukar Bar Model:** Tentukan barang yang bisa dibeli tokoh sesuai dengan jumlah bar model yang mereka miliki. Misalnya, tokoh A (7 bar model ribuan) - beli Kotak permainan
- **Gambar Garis:** Gambar garis dari tokoh ke barang yang mereka beli untuk menunjukkan pertukaran.



Bar model yang dimiliki oleh Lily




Bar model yang dimiliki oleh Dino




Bar model yang dimiliki oleh Justin



Bar model yang dimiliki oleh Luna



Bar model yang dimiliki oleh Lisa



PASANGKAN!

Gambar garis dari tokoh ke barang yang mereka beli untuk menunjukkan pertukaran. **Ingat !!!** Pilihlah barang sesuai dengan jumlah bar model yang dimiliki oleh masing-masing tokoh.

