

LKPD MATEMATIKA

Materi : Bilangan Bulat

Kelas : 7



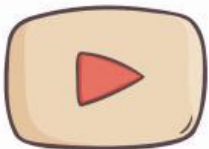
Tujuan Pembelajaran :

1. Mengenal bilangan bulat
2. Memahami garis bilangan
3. Melakukan operasi bilangan bulat

Petunjuk :

1. Terlebih dahulu pahami materi bilangan bulat dalam dengan memilih salah satu atau lebih sumber belajar yang tersedia (Tayangan Video, Tayangan PPT, Halaman Web, Rekaman Suara).
2. Kerjakanlah kegiatan belajar yang tersedia secara berkelompok.

SUMBER BELAJAR



KEGIATAN BELAJAR

1

TEKSFIELD

Bilangan positif, nol, dan negatif yang tidak memiliki nilai pecahan atau desimal adalah ...

2

SINGLE CHOICE

Yang bukan merupakan bilangan bulat adalah ...

3

CHECKBOXES

Pertanyaan berikut yang benar adalah ...

$5 + 7 = 12$

$5 - 7 = 2$

$-5 + 7 = 2$

4

SELECT

Hasil dari $-5 + (-7)$ adalah ...

12

-12

2

5

WORD SEARCH

| | | | | |
|---|---|---|---|---|
| S | A | T | U | E |
| X | S | I | S | M |
| S | R | G | D | P |
| T | I | A | U | A |
| L | I | M | A | T |

Temukan 5 angka yang terdapat pada kotak di samping.

6

SPEAK

Sebutkan bilangan berikut dengan tepat !

216



7

LISTENING

Dengarkan suara berikut dan tulislah jawabannya !



8

DRAG & DOWN

Geser angka berikut pada soal yang tepat !

$-5 + 7 =$

12

$5 - 7 =$

2

$5 - (-7) =$

-2

9

JOIN

Tarik garis soal berikut ke jawaban yang benar

$-5 + 7 =$

12

$5 - 7 =$

2

$5 - (-7) =$

-2