

LKPD

MATEMATIKA "PENJUMLAHAN"

KELAS 2 SD



CAPAIAN PEMBELAJARAN

Peserta didik dapat melakukan operasi penjumlahan dan pengurangan menggunakan benda-benda konkret yang banyaknya sampai 20.

TUJUAN PEMBELAJARAN

- 1. Peserta didik mampu menghitung operasi penjumlahan bilangan cacah sampai 20 dengan benar.**
- 2. Peserta didik mampu melengkapi operasi penjumlahan bilangan cacah sampai 20 dengan benar**
- 3. Peserta didik mampu memecahkan operasi penjumlahan bilangan cacah sampai 20 dengan benar**

PETUNJUK PENGGUNAAN




- 1. Sebelum mengerjakan, membaca doa terlebih dahulu**
- 2. Kerjakan soal dengan teliti dan tepat**









**SELAMAT
MENERJAKAN
SEMOGA BERHASIL!**

Hitunglah hasil dari operasi penjumlahan dan isikan di kotak yang disediakan

 $+$  $=$ 

 $+$  $=$ 

 $+$  $=$ 

 $+$  $=$ 




 $+$  $=$ 

Hitunglah hasil dari operasi penjumlahan dan isikan di kotak yang disediakan


 $+$  $=$ 

 $+$  $=$ 


 $+$  $=$ 

 $+$  $=$ 

 $+$  $=$ 



Hitunglah operasi penjumlahan
di bawah ini dengan baik dan benar!



1. $5 + \dots = 15$

a. 5 c. 8

b. 10

2. $5 + \dots = 16$

a. 10 c. 12

b. 11

3. $8 + \dots = 19$

a. 7 c. 9

b. 8

4. $8 + \dots = 16$


a. 7 c. 8

b. 6


5. $9 + \dots = 12$

a. 2 c. 4

b. 3



Hitunglah operasi penjumlahan
dengan melengkapi soal dibawah ini!



6. $5 + \dots = 20$

7. $\dots + 4 = 10$

8. $\dots + 4 = 11$

9. $\dots + 5 = 17$

10. $\dots + 8 = 17$

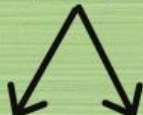
Hitunglah operasi penjumlahan dengan melengkapi soal dibawah ini!

1. $12 + 5 = 17$



.....

2. $15 + 5 = 20$



.....

3. $18 + 2 = 20$



.....

4. $16 + 4 = 20$

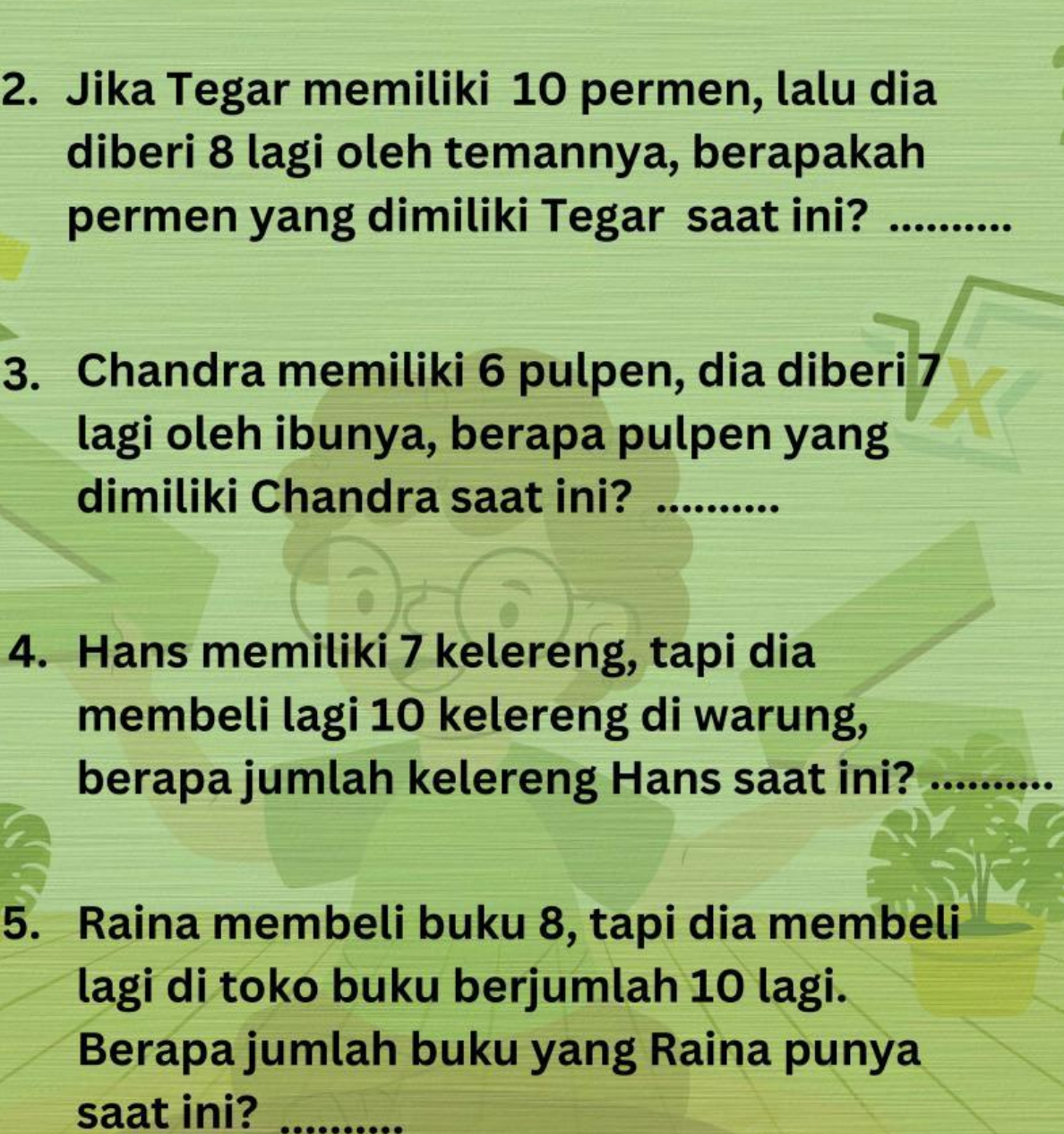


.....



Jawablah soal cerita dibawah ini!



1. Jika Jesika memiliki stroberi 10, lalu dia diberi 10 lagi oleh temannya, berapakah stroberi yang dimiliki Jesika saat ini?
 2. Jika Tegar memiliki 10 permen, lalu dia diberi 8 lagi oleh temannya, berapakah permen yang dimiliki Tegar saat ini?
 3. Chandra memiliki 6 pulpen, dia diberi 7 lagi oleh ibunya, berapa pulpen yang dimiliki Chandra saat ini?
 4. Hans memiliki 7 kelereng, tapi dia membeli lagi 10 kelereng di warung, berapa jumlah kelereng Hans saat ini?
 5. Raina membeli buku 8, tapi dia membeli lagi di toko buku berjumlah 10 lagi. Berapa jumlah buku yang Raina punya saat ini?
- 

**THANK YOU AND
SEE YOU!**

