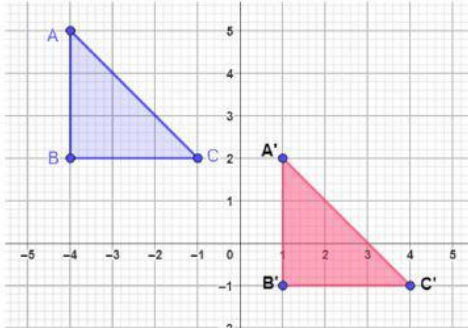


TRANSLASI

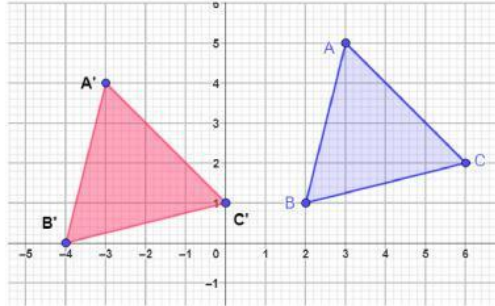
NAMA :

KELAS :

Tulis komponen translasi yang menggeser segitiga ABC ke bayangannya yaitu segitiga $A'B'C'$

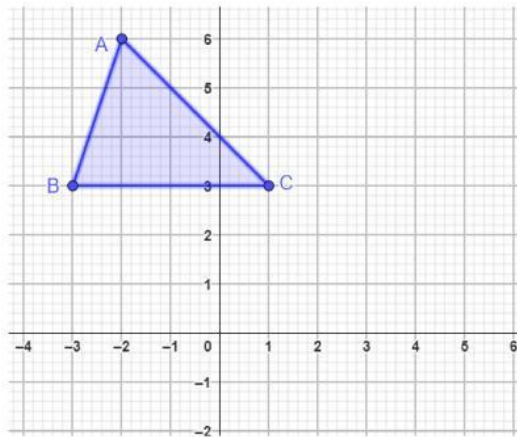


(,)



(,)

Tentukan koordinat bayangan segitiga ABC pada gambar di bawah ini jika ditranslasi dengan komponen translasi $(4, -2)$.



A' (,)

B' (,)

C' (,)