



Lembar Aktivitas Siswa (LAS)



**Lembar Aktivitas Siswa
(LAS)**

Kelompok :

Nama Anggota :

1.
2.
3.
4.

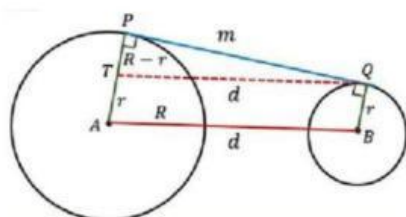
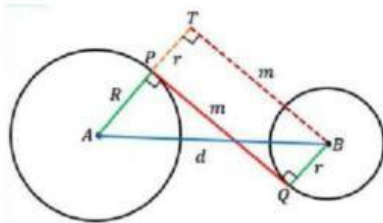
Tujuan Pembelajaran

Melalui model *TGT (Team Games Tournament)* dengan berpikir kritis dan musyawarah (syura') peserta didik dapat menentukan fungsi invers dari fungsi asalnya dengan tepat.

Petunjuk Penggunaan

1. Bacalah doa terlebih dahulu sebelum mengerjakan LAS
2. Isilah identitas kelompok pada kolom yang telah disediakan
3. Bacalah petunjuk pengerjaan LAS
4. Diskusikan dan Lengkapi jawaban pada LAS secara berkelompok
5. Perwakilan kelompok mempresentasikan hasil pengerjaan LAS

Pindahkan keterangan di kotak berwarna merah ke kotak berwarna biru, sehingga menjadi keterangan yang tepat berdasarkan gambar yang tersedia!



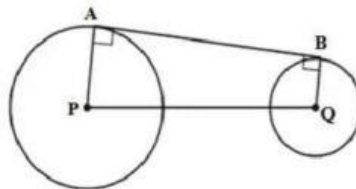
$$PQ = \sqrt{AB^2 - (R - r)^2}$$

$$PQ = \sqrt{AB^2 - (R + r)^2}$$

Garis singgung persekutuan luar

Garis singgung persekutuan dalam

Pilihlah jawaban yang tepat



Disebut apakah ruas garis AB

Disebut apakah ruas garis PQ

Ruas garis manakah yang menunjukkan jari-jari lingkaran kedua

Disebut apakah ruas garis AP