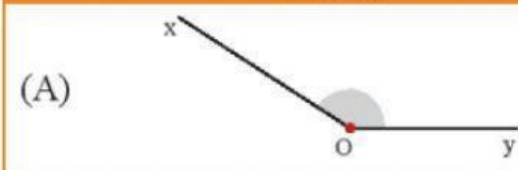



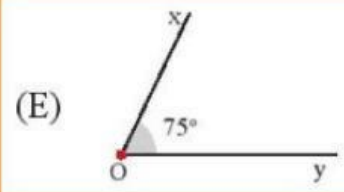
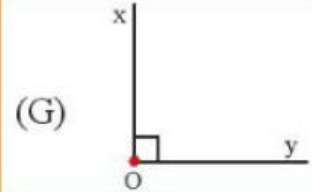


BÀI TẬP CUỐI CHƯƠNG 8

Câu 1: Em hãy tìm một hình vẽ tương ứng với mỗi khái niệm hình hình học.

Hình hình học	Hình vẽ
(1) Điểm A	(A) 
(2) Góc bẹt	(B) 
(3) M là điểm trong của góc xOy	(C) 
	(D) 
(4) Góc vuông	(E) 
(5) Góc tù	(G) 
(6) Góc nhọn xOy có số đo 75°	(H) 