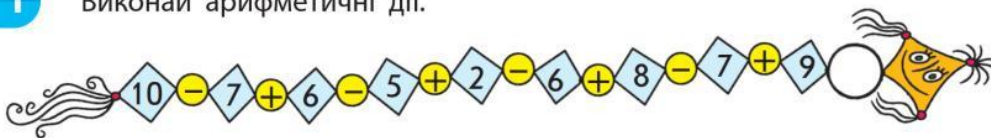


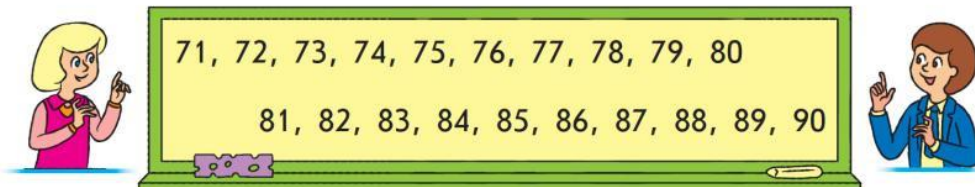
ДОДАЄМО І ВІДНИМАЄМО ЧИСЛ НА ОСНОВІ НУМЕРАЦІЇ

- > $56 + 1$; $56 - 1$
- > $50 + 6$; $56 - 6$; $56 - 50$
- > $40 + 20$; $40 - 20$

1 Виконай арифметичні дії.

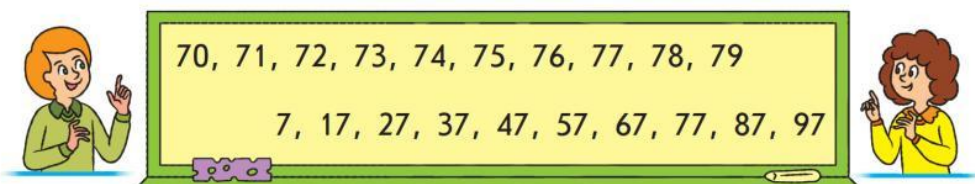


3 Соня та Павло мали записати числа восьмого десятка. Перевір, хто з дітей виконав завдання правильно.



Додати 1 — це означає одержати наступне число.
Відняти 1 — це означає одержати попереднє число.

4 Оленка та Сашко мали записати числа, що містять сім одиниць. Перевір, хто з дітей виконав завдання правильно.



5 За якою ознакою вирази розбито на групи? Знайди значення виразів із поясненням.

$60 + 1 =$	$70 - 1 =$	$50 + 6 =$
$49 + 1 =$	$27 - 1 =$	$90 + 2 =$
$38 - 8 =$	$54 - 50 =$	$40 + 30 =$
$42 - 2 =$	$36 - 30 =$	$20 + 70 =$

6 Знайди помилки в обчисленнях. Спробуй їх пояснити.

$65 - 5 = 60$	$89 + 1 = 90$	$70 - 50 = 20$
$80 + 4 = 48$	$68 - 60 = 8$	$38 + 1 = 37$
$70 - 1 = 71$	$40 + 50 = 45$	$46 - 30 = 6$

8 Знайди значення виразів.

$94 - 4 + 1$	$50 - 1 - 40$
$80 - 60 + 8$	$67 - 60 + 2$

9 Порівняй числа.

$93 \bigcirc 39$	$65 \bigcirc 61$	$28 \bigcirc 32$
$78 \bigcirc 79$	$39 \bigcirc 42$	$94 \bigcirc 90$