

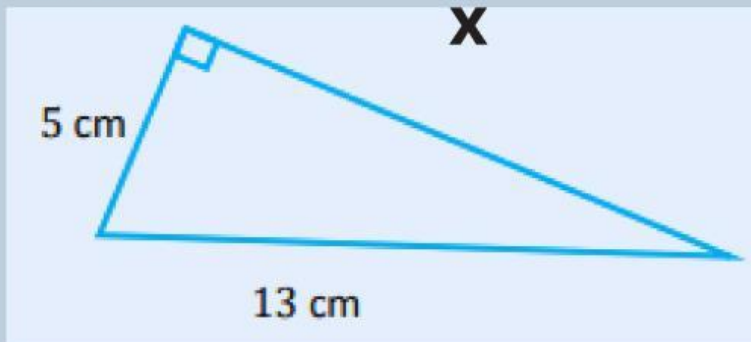
Tes Formatif

Nama:

Kelas:

Tentukan panjang sisi-sisi yang belum diketahui pada gambar berikut ini!

1.



Penyelesaian:

$$x^2 = 13^2 - \dots^2$$

$$x^2 = 169 - \dots$$

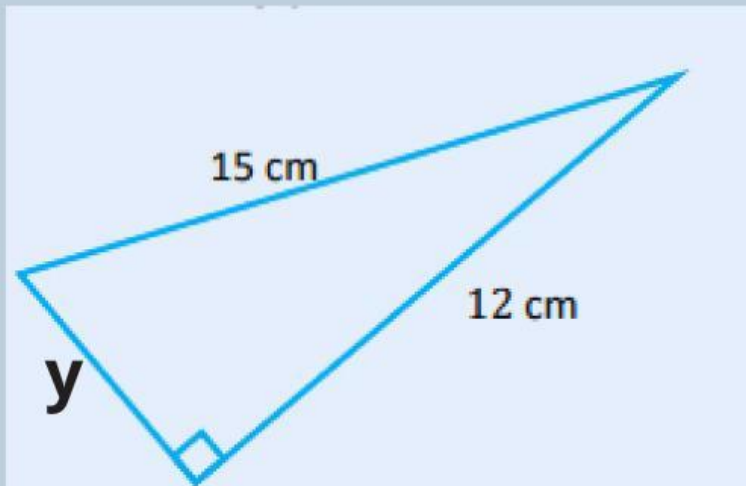
$$x^2 = \dots$$

$$x = \sqrt{\dots}$$

$$x = \dots$$

Jadi, nilai x adalah.....

2.



Penyelesaian:

$$y^2 = 15^2 - \dots\dots$$

$$y^2 = 225 - \dots\dots$$

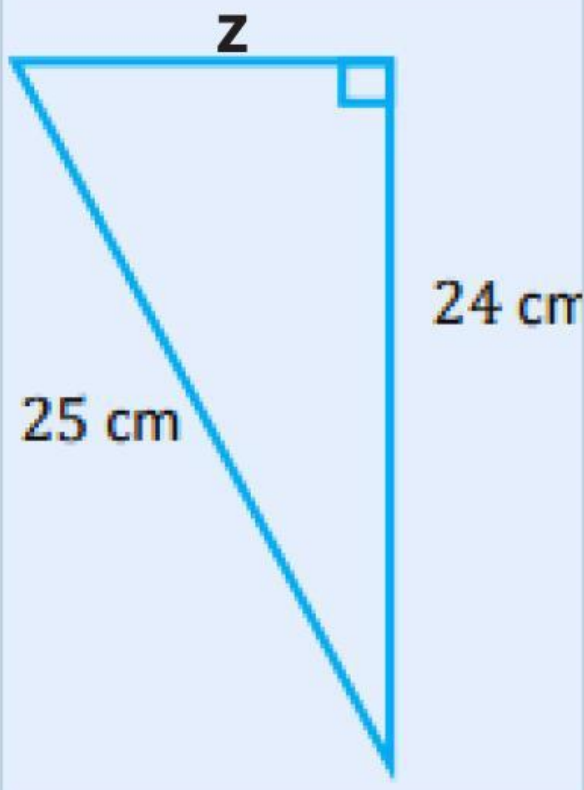
$$y^2 = \dots\dots$$

$$y = \sqrt{\dots\dots}$$

$$y = \dots\dots$$

Jadi, nilai y adalah.....

3.



Setelah selesai klik **finish**
kirim ke email:

Penyelesaian:

sitisundari61@guru.smp.belajar.id

$$z^2 = 25^2 - \dots$$

$$z^2 = 625 - \dots$$

$$z^2 = \dots$$

$$z = \sqrt{49}$$

$$z = \dots$$

Jadi, nilai z adalah.....