

# LKPD IPS



ABC




By. Darmasuri,S.Pd

# Materi


## Memahami bentuk-bentuk muka bumi



# Materi 1



# Materi 2



## A. Pasangkan gambar bentuk muka bumi berikut ini



**Lembah**



**Dataran Tinggi**



**Selat**



**Gunung**



**Sungai**



**Dataran Rendah**

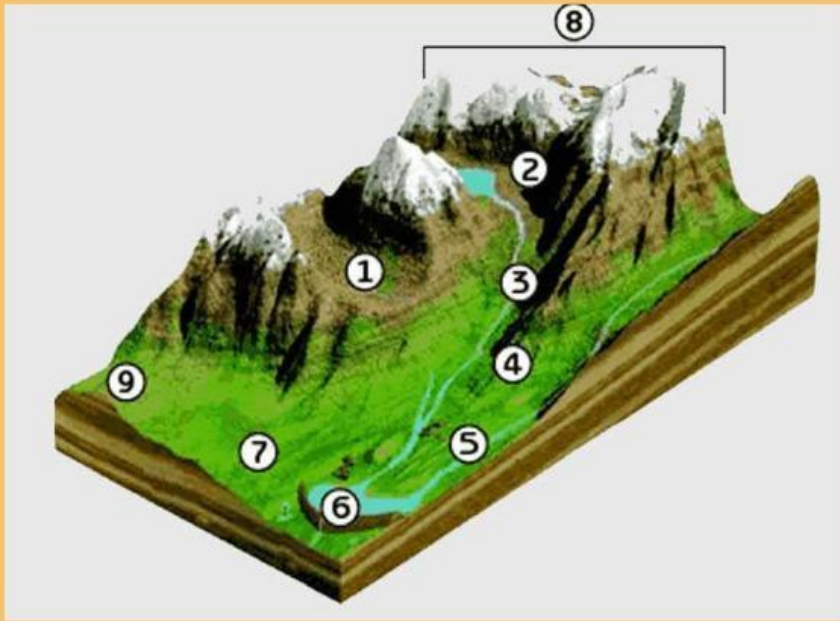


**Teluk**

## B. Pilihlah salah satu jawaban yang paling tepat

Bentuk Muka Bumi	Keterangan
	Wilayah yang memiliki dataran luas pada ketinggian lebih dari 400 dpl biasanya dekat dengan hulu sungai
Danau	
	Bagian laut yang menjorok ke darat
	daerah panjang dan rendah yang biasanya ditemukan di antara bukit dan gunung.
Tanjung	
	bentang alam yang memiliki permukaan tanah lebih tinggi daripada permukaan tanah lain di sekelilingnya.
	wilayah perairan yang relatif sempit yang menghubungkan dua bagian perairan yang lebih besar.
Pegunungan	
	dataran bertanah basah yang selalu digenangi air secara alami.
	suatu aliran air yang mengalir dari tempat yang lebih tinggi ke tempat yang lebih rendah.

### C. Draf dan drag sesuai dengan jawabannya



Ngarai

Bukit

Sungai

Lembah

Pegunungan

Dataran Tinggi

Danau

Jurang