



PHIẾU BÀI TẬP CUỐI TUẦN 2



Kiến thức ôn tập:

Trừ các số có ba chữ số (có nhớ 1 lần)

Ôn tập các bảng nhân, bảng chia đã học

Bài 1: Tính

$$\begin{array}{r} 245 \\ - 129 \\ \hline \end{array}$$

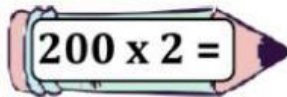
$$\begin{array}{r} 940 \\ - 528 \\ \hline \end{array}$$

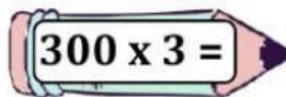
$$\begin{array}{r} 768 \\ - 178 \\ \hline \end{array}$$

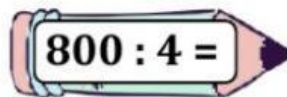
$$\begin{array}{r} 572 \\ - 23 \\ \hline \end{array}$$

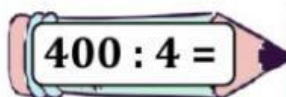
Bài 2: Nói

Nói đúng phép tính với kết quả tương ứng:

 $200 \times 2 =$

 $300 \times 3 =$

 $800 : 4 =$

 $400 : 4 =$

900

400

100

200

Bài 3: Tính

Mẫu:

$$\begin{aligned} & 5 \times 3 + 100 \\ & = 15 + 100 \\ & = 115 \end{aligned}$$

$$\text{b) } 21 : 3 + 23$$

$$\begin{aligned} & = \quad + \\ & = \end{aligned}$$

$$\text{c) } 5 \times 9 + 45$$

$$\begin{aligned} & = \quad + \\ & = \end{aligned}$$

Bài 4

Mỗi hộp có 4 quả trứng. Hỏi 5 hộp như vậy có bao nhiêu quả trứng?



Bài giải

Đáp số:



PHIẾU BÀI TẬP CUỐI TUẦN 2



Kiến thức ôn tập:

Mẫu câu "Ai là gì?"

Mở rộng vốn từ: **Chiều nhi**

Bài 1: Nói

Em hãy nói về câu ở cột A thích hợp với cột B để được 1 câu theo mẫu "Ai là gì?"

A

Chúng em

Con mèo

Cô - rết - ti

B

là thú cưng mà Na yêu nhất.

là một người bạn tốt.

là học sinh lớp 3.

Bài 2: Đặt câu

Em hãy đặt 2 câu theo mẫu "Ai là gì?"



Bài 3. Kéo - thả

nhi đồng

em bé

chăm chỉ

thiếu nhi

trung thực

vàng lã

Chỉ trẻ em

Chỉ tính nết của trẻ em

Chúc các con cuối tuần thật hạnh phúc

