



LKPD



LEMBAR KERJA PESERTA DIDIK



LUAS BELAH KETUPAT

KELAS VI
SEKOLAH DASAR

Nama :





Kelas :

Kelompok :





Petunjuk Penggunaan E-LKPD

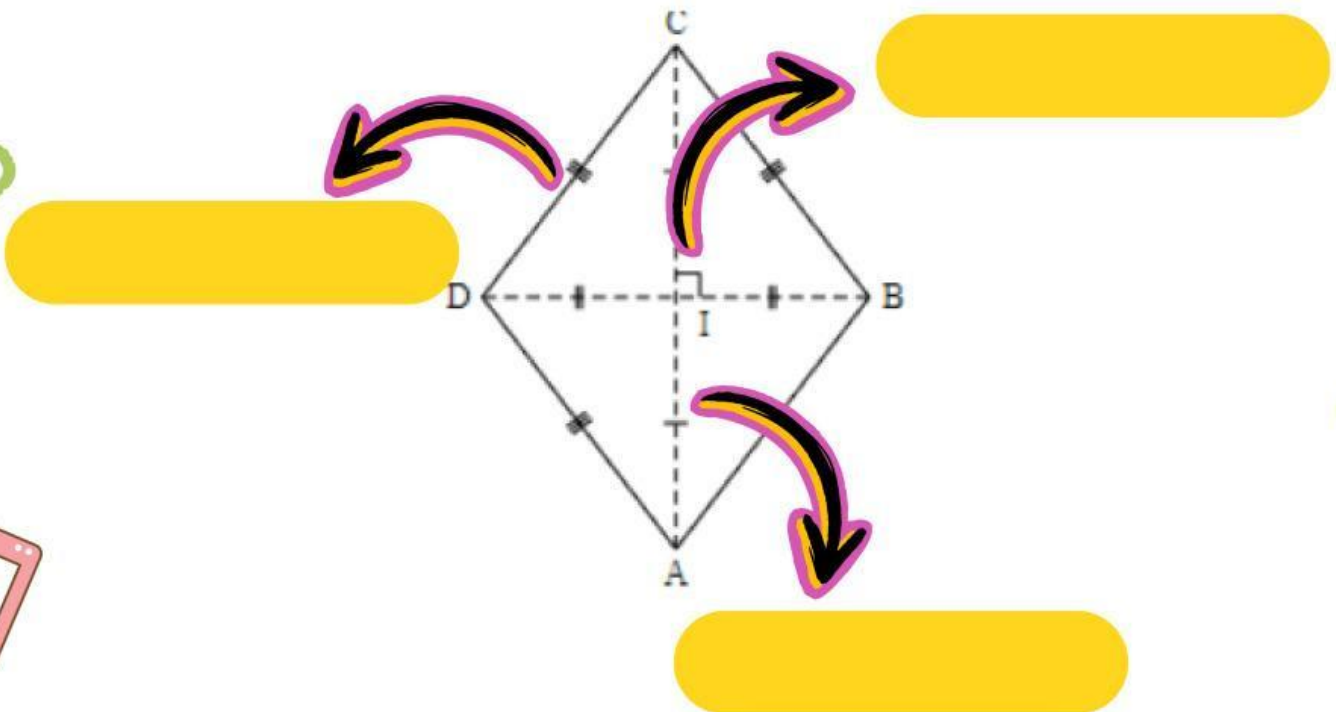
- 
- 
- 
- 
- 1** Tuliskan nama dan kelas pada kolom yang tersedia
 - 2** Perhatikan penjelasan yang disampaikan oleh guru
 - 3** Kerjakan sesuai kolom yang disediakan dengan benar
 - 4** Baca dan pahami bahan ajar dan tugas yang ada





Ayo Mencoba!

Kerjakan dengan cara mencocokkan dan pasangkanlah pilihan jawaban pada kolom yang sudah disediakan dengan benar



Sudut

Diagonal

Sisi



Ayo Berlatih!

Petunjuk: Berikan jawaban "Benar" jika pernyataan sesuai dan "salah" apabila tidak setuju dengan pernyataan pada kolom yang tersedia.

1. Bangun datar belah ketupat mempunyai 6 sisi yang sama panjang

2. Sudut-sudut yang berhadapan sama besar dan dibagi dua sama besar oleh diagonalnya

Ayo Berlatih!

Jawablah pertanyaan berikut dengan tepat!

1. Jika luas belah ketupat adalah 50 cm^2 dan panjang diagonal pertama adalah 10 cm , berapakah panjang diagonal kedua?

2. Jika panjang diagonal pertama motif belah ketupat pada batik Sido Mukti adalah 12 cm dan diagonal kedua adalah 5 cm , berapa luasnya?