

OPERASI HITUNG BILANGAN CACAH

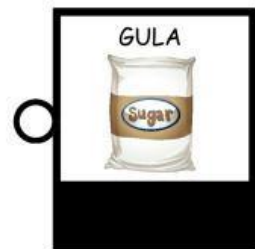
Anak-anak, bantu ibu mencari tau harga barang berikut dengan melihat tabel harga barang yang tersedia pada Class 5A Mart ya!



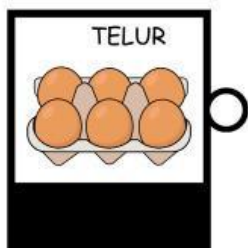
WORTEL 	KOL 	SEMANGKA 	CERI 	ANGGUR 	CHIPS 
---	--	---	---	---	--




☐ Rp. 18.200 ☐




☐ Rp. 27.600 ☐




☐ Rp. 36.000 ☐



☐ Rp. 16.000 ☐



☐ Rp. 14.400 ☐



☐ Rp. 30.000 ☐



Setelah menimbang beberapa hal, Ibu memutuskan untuk membeli barang sesuai dengan daftar belanjaan di bawah ini!

Bantu ibu untuk menghitung belanjanya! Dengan memperhatikan berat dan jumlah pcs/pack yang dibutuhkan ibu!

Daftar Belanja

Harga 4 Kg gula =

Harga 100gr anggur =

Harga 1 Pcs coca cola =

Harga 100gr ikan =



Total uang yang harus dibayar?

Rp.

Ceklis jumlah uang yang akan digunakan untuk membayar

☐☐☐☐

Berapakah kembaliannya?

Rp.

Tulislah cara membaca bilangannya!