

١- رتب مراحل نمو النبات بالوصل:




٤

٢

٣

١



٢- حدد وسائط النقل الحديثة:



٣- حدد الشروط اللازمة لنمو النبات :



٤- رتب بالأرقام وسائط النقل من الأبطأ إلى الأسرع :



٥- صنف الحيوانات التالية حسب النوع الأليفة في المربع الأخضر والمفترسة في المربع الأحمر :

مفترسة

أليفة

