

Тема: Положительные и отрицательные числа. Координатная прямая.

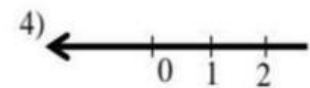
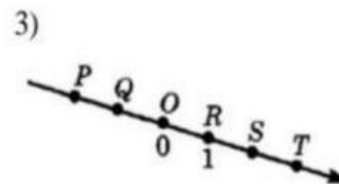
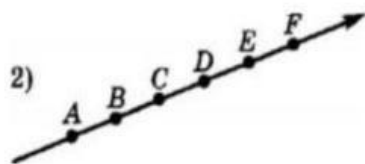
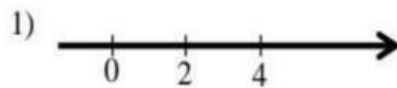
Задание № 1: Соберите положительные и отрицательные числа.

5; -12; 0; +23;  $-\frac{12}{35}$ ; + 0,25; 123;  $\frac{23}{36}$ ; - 69; 756

Положительные числа \_\_\_\_\_

Отрицательные числа \_\_\_\_\_

Задание № 2: Найдите координатную прямую



1

Задание № 3: