



ВІД ПРОСТОГО ДО СКЛАДНОГО

## 1 Поміркуй та запиши відповідь до задачі.

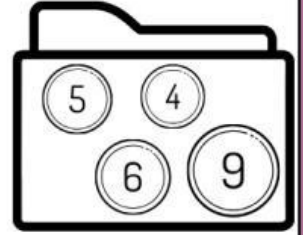
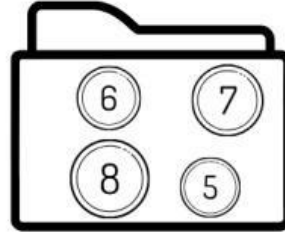
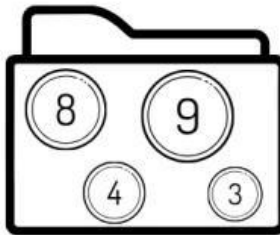
У схованці Білочки Зрозумілочки було 3 горіхи. Вона принесла ще 4 десятки горіхів. Скільки стало горіхів?



Відповідь: \_\_\_\_\_ горіхи.

## 2 Прочитай та виконай завдання.

Зайчик Второпайчик, Білочка Зрозумілочка та Хомка Семечкін хочуть купити по блокноту. Допоможи їм розрахуватися на касі. Поклади до каси з кожного гаманця 20 лісових грошей.



## 3 Перевір, чи будуть подані числа коренями рівнянь. Обери відповідь так або ні.

$$a + 23 = 30$$

Перевірка:

$$\underline{\quad} + 23 = \underline{\quad}$$

$$\underline{\quad} = 30$$

7 - це корінь рівняння?



так ні

$$34 - x = 23$$

Перевірка:

$$34 - \underline{\quad} = \underline{\quad}$$

$$\underline{\quad} = 23$$

12 - це корінь рівняння?



так ні

$$x : 3 = 7$$

Перевірка:

$$\underline{\quad} : \underline{\quad} = \underline{\quad}$$

$$\underline{\quad} = \underline{\quad}$$

27 - це корінь рівняння?



так ні

## 4 Заповни таблицю.

Доданок	24		36		16	41		19	28	
Доданок		13	22	15		28	35		10	37
Сума	78	67		90	24		68	80		57