

Lembar Kerja Peserta Didik

LKPD


MATEMATIKA

GEOMETRI & BILANGAN


★ **Kelompok** ★
.....
Kelas :
.....



Perhatikan Video Berikut



Perhatikan Materi Presentasi Berikut



Kerjakan Soal Soal di Bawah ini

Text fields = isian

1. Apa nama bangun datar di bawah ini



Single Choice = Drop Down

2. Titik - titik yang memiliki jarak yang sama dengan titik pusat disebut

Check Boxes = pilihan ganda kompleks

3. Bangun datar yang selalu memiliki semua sisinya yang sama panjang adalah

Persegi

Jajar genjang

Belah ketupat

Trapesium

Select = pilihan ganda

4. Nilai $2 + 4 \times 5 - 4 = \dots$

18

36

8

22

Word search = mencari kata

5. Temukan 5 angka pada kotak di bawah ini

| | | | | |
|---|---|---|---|---|
| S | A | T | U | E |
| X | R | I | G | M |
| K | I | G | D | P |
| J | E | A | U | A |
| L | I | M | A | T |



Speak

6. Sebutkan bilangan berikut dengan tepat



27

Listen

7. Dengarkan suara berikut dan tuliskan Jawabannya



Drag and Drop

8. Geser angka berikut pada soal yang tepat

-3+8

11

3-8

5

3 - (-8)

-5

Join = Menjodohkan

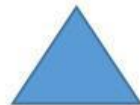
9. Buatlah ke garis jawaban yang benar



LINGKARAN



SEGITIGA



BELAH KETUPAT

