

# LEMBAR KERJA PESERTA DIDIK



Nama Siswa :

Kelas :

## 1. Petunjuk Belajar

1. Pahami materi yang sudah diberikan
2. Jawab menggunakan literature
3. Jawablah soal-soal langsung pada lembar LKPR
4. Jawablah soal-soal dengan menganalisis

## 2. Kompetensi Dasar

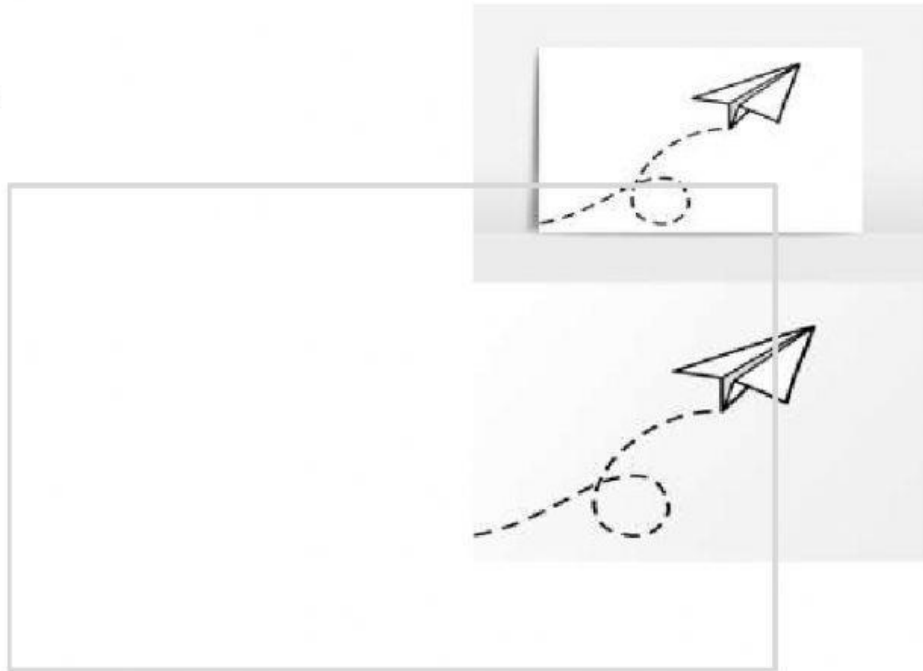
- 1.1 Mendeskripsikan Bentuk-bentuk muka bumi di daratan dan di lautan

## 3. Indikator


1. Pengertian gunung
2. Pengertian pegunungan
3. Pengertian dataran tinggi
4. Pengertian dataran rendah
5. Pengertian lembah
6. Pengertian landasan benua
7. Pengertian lereng benua
8. Pengertian deep sea plain
9. Pengertian the deeps

## SOAL

### A.Experimen



1. **Pahami materi yang sudah diberikan**
2. **Simak video dengan seksama**
3. **Buatlah miniatur terjadinya ledakan pada gunung berapi menggunakan bubur koran**
4. **Identifikasi kegiatan tersebut**
5. **Hasil dikumpul dan dipresentasikan pertemuan selanjutnya**



## **B.PILIHAN GANDA**

**1.Pegunungan yang disebabkan oleh terlipatnya lapisan sedimen yang besar karena tekanan dari dalam bumi yait...**

- a.Pegunungan sisa**
- b.Pegunungan lipatan**
- C.Pengangkatan kerak bumi**
- d.Gunung lipatan**

**2.Dataran luas dengan ketinggian sekitar 200 m disebut..**


- a.Dataran tinggi**
- b.Dataran rendah**
- c.Pegunungan**
- d.Lembah**

**3.Bentukan yang terjadi akibat tenaga tektonik yaitu..**

- a.Lubuk laut**
- b.Gunung laut**
- c.Punggung laut**
- d.Ambang laut**

**4.Dibawah ini yang termasuk dalam bentuk muka bumi di daratan.. *kecuali***

- a.Gunung**
- b.Pegunungan**
- c.The deeps**



**d.Dataran tinggi**

**5.Basin merupakan bentukan muka bumi yang berada pada...**

**a.Lautan**

**b.Pegunungan**

**c.Daratan**

**d.Lembah**

**6.Landasan yang berbatasan langsung dengan benua disebut..**

**a.Lereng benua**

**b.Landasan benua**

**c.The deeps**

**d.Deep Sea plain**

**7.Daerah rendah yang terletak diantara dua pegunungan atau dua gunung disebut..**

**a.Dataran rendah**

**b.Dataran tinggi**

**c.Lembah**

**d.Gunung**

**8.Apa manfaat dari belajar tentang bentuk permukaan bumi?**

**a.Merusak bumi**

**b.Memperbaiki ekonomi**

**c.Mehasilkan uang**

**d.Mengerti tentang permukaan bumi**

**9.Apa yang dimaksud dengan gunung denudasi..**

**a.Pegunungan lipatan**

**b.Pegunungan sisa**

**c.Bukit**

**d.Pegunungan oleh pengangkatan kerak bumi**

**10.Punggung laut yang memisahkan dua bagian laut atau dua laut yang dalam disebut**

**a.Ambang laut**

**b.Palung laut**

**c.Gunung laut**

**d.Lubuk laut**

**SELESAI**