

LKPD
KLASIFIKASI MAKHLUK HIDUP



Kerjakan soal dibawah ini !

1. Kelompok tumbuhan padi yang hidup di sebidang sawah, berdasarkan konsep ekologi merupakan suatu
 - A. individu
 - B. ekosistem
 - C. komunitas
 - D. populasi
2. Peranan decomposer terhadap kesuburan tanah adalah
 - A. menyusun senyawa-senyawa organik
 - B. menguraikan bahan-bahan organik
 - C. menambah kandungan bahan organik
 - D. meningkatkan porositas (lubang) tanah
3. Interaksi antar makhluk hidup pada gambar dibawah merupakan contoh





4. Buatlah garis jawaban yang benar!

Makhluk hidup tunggal

Populasi

Kumpulan makhluk hidup suatu spesies yang sejenis menempati suatu daerah tertentu

Komunitas

Kumpulan dari populasi yang berbeda dan hidup bersama di suatu tempat


Individu

5. Tariklah nama saling ketergantungan antara komponen biotik dengan komponen biotik yang sesuai dengan gambar

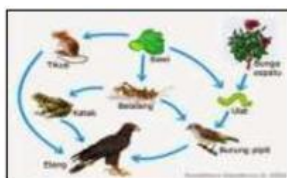
Gambar

Nama gambar

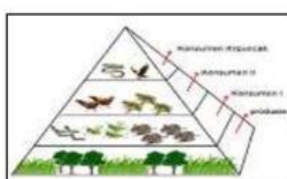
Pilihan Nama



Jaring-jaring makanan



Piramida makanan



Rantai makanan