

E-LKPD MATEMATIKA

PENJUMLAHAN DAN PENGURANGAN BILANGAN BULAT

Eko Rahmad Bahrudin, S.Pd.
SMP NEGERI 1 TIKUNG

Nama : _____

Kelas : _____



Petunjuk Pengerjaan

1. Kerjakan secara individu.
2. Lakukan kegiatan sesuai langkah-langkah dengan sungguh-sungguh dan tanggungjawab.
3. Jawablah pertanyaan yang diberikan.

Ayo Mengingat Kembali

1. Klik atau sentuh angka, kemudian geser dan lepas didalam kotak garis bilangan yang tersedia agar menjadi urutan bilangan bulat dari yang terkecil

9	-15	15	0	-13	-2	2
---	-----	----	---	-----	----	---

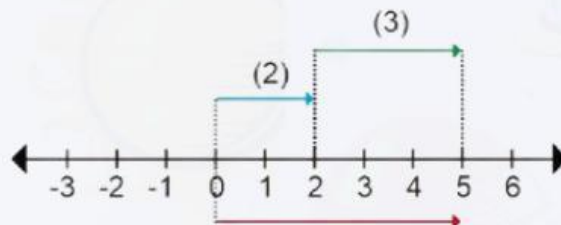


2. Bandingkan bilangan bulat berikut! Beri tanda "<" atau ">" atau "="!

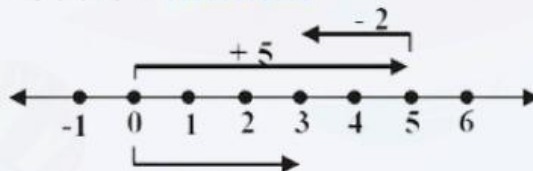
-23		-20
7		-7
8		8
0		-99
-118		-120

Operasi penjumlahan dan pengurangan bilangan bulat

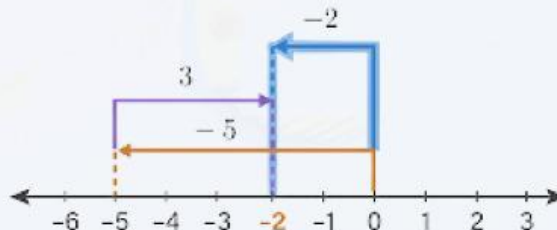
1. Operasi hitung yang ditunjukkan oleh garis bilangan dibawah ini adalah $2 + 3 = 5$



2. Operasi hitung yang ditunjukkan oleh garis bilangan dibawah ini adalah



3. Operasi hitung yang ditunjukkan oleh garis bilangan dibawah ini adalah



4. Berilah tanda centang pada pernyataan yang sesuai dengan soal cerita berikut ini!

Sebuah kapal selam, mula-mula menyelam 120m di bawah permukaan laut. Kemudian kapal bergerak ke bawah sejauh 60m. Nyatakan posisi kapal selam dari permukaan laut dengan penjumlahan bilangan bulat.

☐ $120m + 60m$

☐ $(-120m) + (-60m)$

☐ $(-120m) + 60m$

☐ $(120m) + (-60m)$