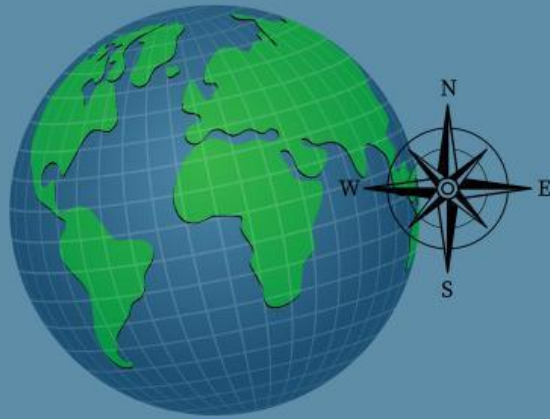


LKPD GEO

**Tema : Letak Astronomis dan
Geografis Indonesia**



Nama :

No Absen :

Kelas :



TUJUAN PEMBELAJARAN

- Siswa diharapkan mampu menjelaskan pengertian letak astronomis dan geografis dengan tepat
- Siswa diharapkan mampu menyebutkan letak astronomis dan geografis Indonesia dengan tepat
- Siswa diharapkan mampu menentukan pengaruh letak astronomis dan geografis Indonesia dengan tepat

PETUNJUK PENGGUNAAN

01. Isikan nama dan nomor absen!

02. Bacalah setiap petunjuk LKPD dengan cermat!



03. Pastikan koneksi internet tidak bermasalah!




04. Carilah informasi pada e-modul unit 1 bagian "School (Sekolah)" untuk mempermudah dalam pengisian lembar kegiatan ini!



05. Tanyakan gurumu jika mengalami kesulitan

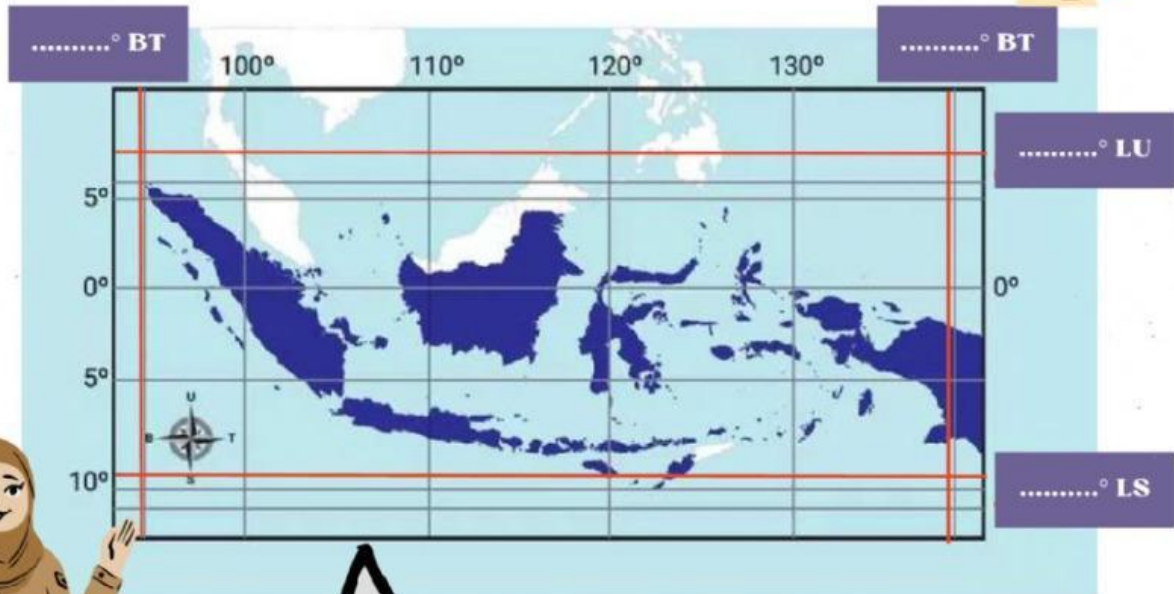
Mintalah bantuan teman atau rekan untuk membantu mencapai tujuan dan mengurangi beban dengan tetap berusaha dengan maksimal



Aktivitas 1

Letak Astronomis

Indonesia memiliki letak astronomis yang membedakannya dengan negara lain. Letak astronomis ini berpengaruh terhadap kehidupan masyarakat di Indonesia. Mari kita cari tahu!. Tuliskan letak astronomis Indonesia pada kotak di bawah.



Berdasarkan gambar peta tersebut dapat diketahui bahwa

Letak Astronomis adalah letak suatu tempat berdasarkan

Letak astronomis Indonesia berada pada° Lintang Utara (LU) -° Lintang Selatan (LS) dan° Bujur Timur (BT) -° Bujur Timur (BT)

Pengaruh Letak Astronomis

Letak astronomis Indonesia yang berada pada 6° LU-11° LS menyebabkan Indonesia memiliki zona waktu. Bacalah setiap pernyataan berikut, tekan pada pernyataan yang menurut kamu Benar/Salah



Letak astronomis Indonesia berdasarkan garis lintang menyebabkan Indonesia memiliki iklim tropis



BENAR

SALAH

Letak astronomis Indonesia berdasarkan garis lintang menyebabkan Indonesia memiliki posisi silang dunia



BENAR

SALAH

Curah hujan tinggi disebabkan oleh letak astronomis Indonesia



BENAR

SALAH

Letak astronomis Indonesia yang berada pada 95 BT-141 BT menyebabkan Indonesia memiliki zona waktu. Tuliskan pembagian waktu tersebut pada kotak dibawah ini!

Berdasarkan gambar peta di samping dapat diketahui bahwa

Indonesia memiliki pembagian waktu yaitu



Aktivitas 2

Letak Geografis

Indonesia memiliki letak geografis yang menyebabkan Indonesia memiliki posisi yang strategis. Tulislah letak geografis Indonesia pada kotak dibawah ini!



Berdasarkan gambar peta tersebut dapat diketahui bahwa

Letak Geografis adalah letak suatu tempat berdasarkan

Letak geografis Indonesia berada diantara

.....
.....
.....



Batas Negara Indonesia

Negara Indonesia berbatasan langsung dengan negara lain maupun perairan. Tuliskan salah satu batas negara Indonesia di sebelah Utara, Selatan, Barat, dan Timur pada kotak di bawah ini!



Pengaruh Letak Geografis

Letak Geografis Indonesia tentunya memberikan pengaruh baik positif maupun negatif. Bacalah setiap pernyataan berikut, tekan pada pernyataan yang menurut kamu Benar/Salah

Posisi silang dunia
TIDAK mempengaruhi
masuknya budaya
asing di Indonesia

BENAR

SALAH

Letak geografis
menyebabkan
Indonesia memiliki 2
musim

BENAR

SALAH

Masuknya barang-
barang terlarang
seperti narkoba
merupakan dampak
negatif letak geografis
Indonesia

BENAR

SALAH