

LKPD

Lembar Kerja Peserta Didik

BANGUN RUANG KELAS VIII

Bersama Tim Pengabdian
Masyarakat Departemen Teknik
Elektronika FT UNP



Materi Pelajaran

Mari menonton video berikut ini

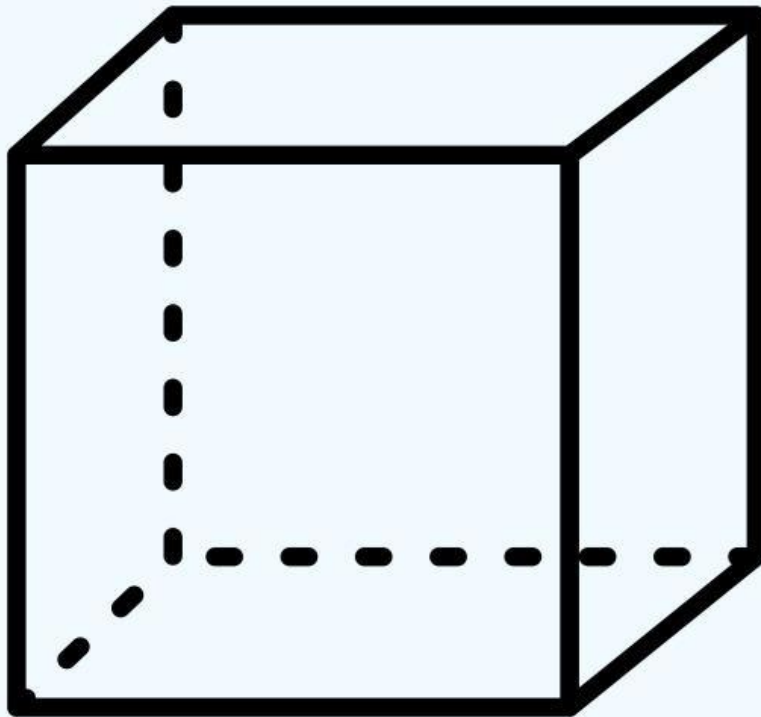


Selanjutnya mari baca materi berikut ini



Bangun Ruang

Mari perhatikan gambar berikut ini



Apakah nama dari bangun ruang ini?

Bangun Ruang

Bagun ruang apa yang memiliki alas segitiga?



Pilihlah jenis dari bangun ruang berikut ini!



Limas



Tabung




Lingkaran

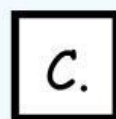
Pilihlah jenis bangun ruang yang memiliki alas lingkaran!



Limas

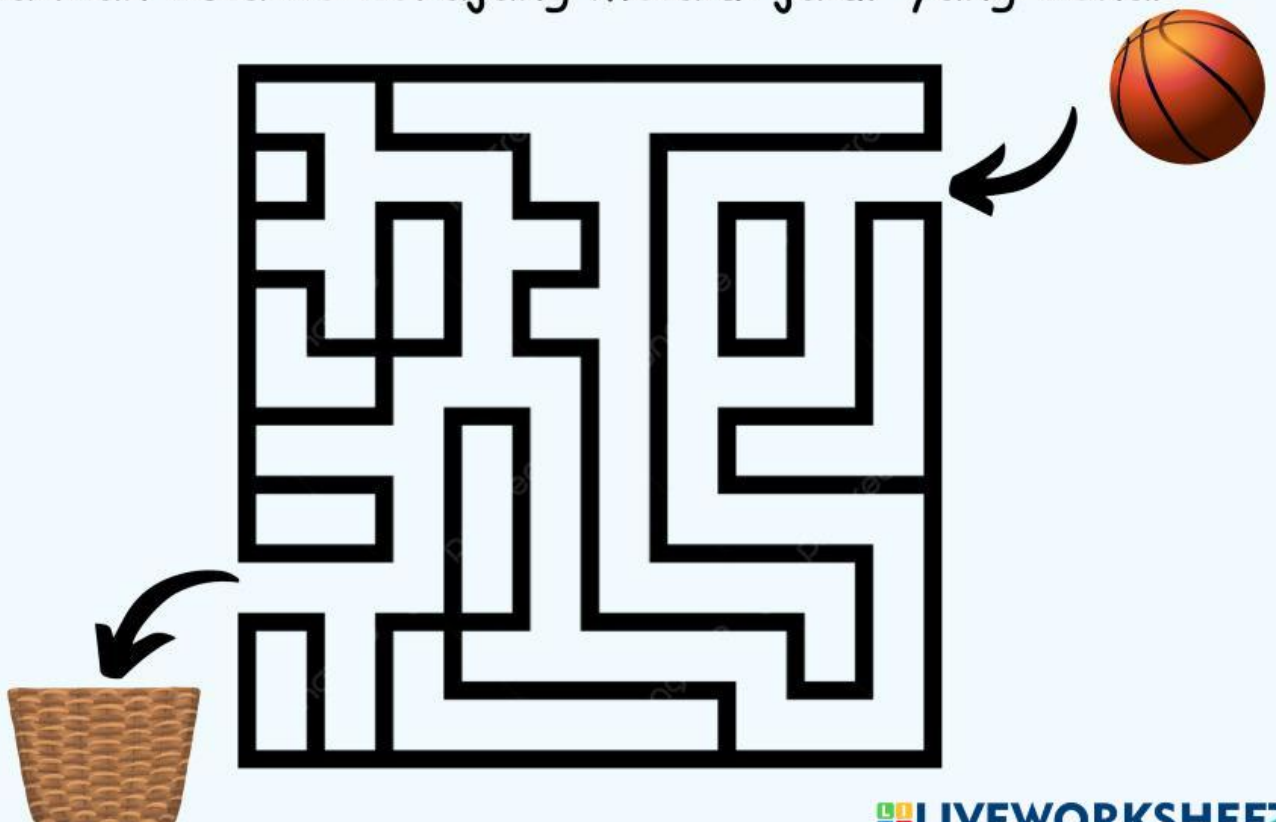


Tabung



Kubus

Pindahkan bola ke keranjang melalui jalur yang benar



Bangun Ruang


Bangun ruang yang tidak memiliki titik sudut adalah

Sebutkan : 


Klik tombol dibawah ini untuk mendengarkan soal



Pilihlah 3 nama dari bangun ruang



TEKA-TEKI SILANG



MENDATAR

- 1 Bangun ruang yang memiliki 12 rusuk yang tidak sama panjang
- 4 Bangun ruang yang memiliki alas segitiga
- 6 Bangun ruang yang memiliki 12 rusuk sama panjang
- 7 Bangun ruang yang memiliki dua bidang alas dan tutup yang sejajar dan sisi-sisinya berbentuk segi-n

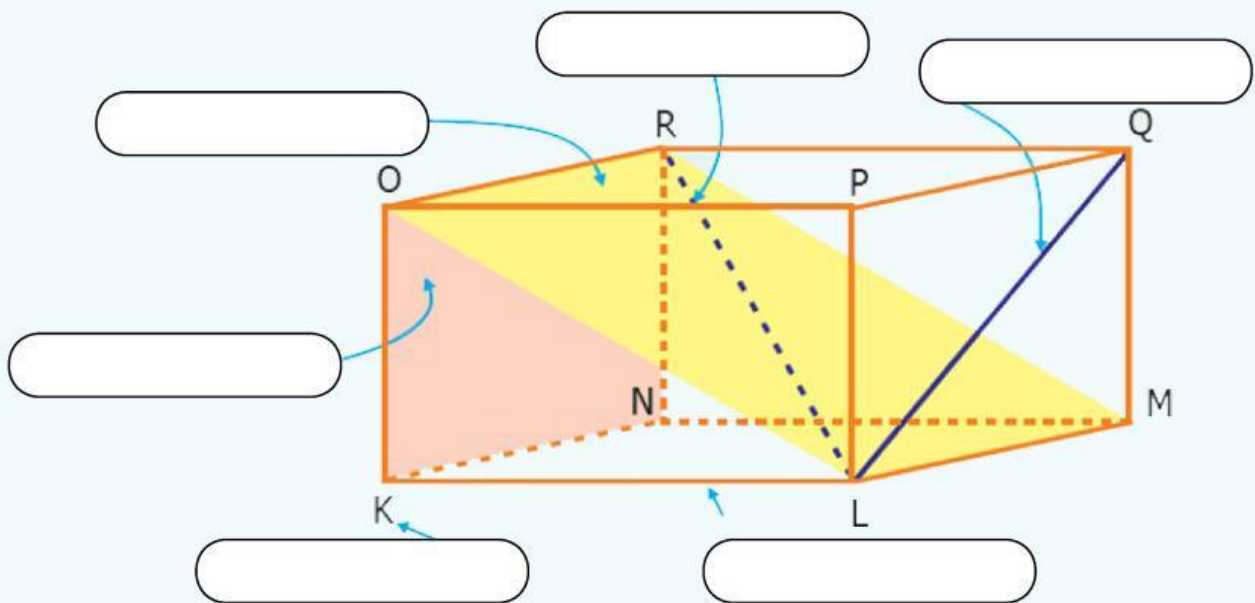
MENURUN

- 2 Bangun ruang yang memiliki alas dan tutup lingkaran
- 3 Bangun ruang yang memiliki alas lingkaran dan sisi tegak berbentuk segitiga
- 5 bangun ruang yang tidak memiliki rusuk, bidang sisi, dan titik sudut

Semangat!

Komponen Bangun Ruang

Pindahkan kotak pada tempat yang benar



Diagonal Ruang

Bidang Diagonal

Diagonal Sisi

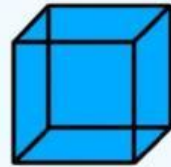
Sisi

Rusuk

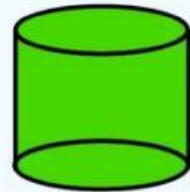
Sudut

Jenis Bangun Ruang

Limas



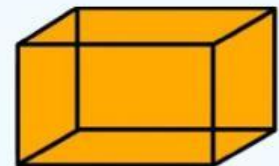
Prisma



Balok




Tabung



Bola



Kerucut



Kubus

