



KURIKULUM MERDEKA



LKPD

PENJUMLAHAN DAN PENGURANGAN SD KELAS 1



DISUSUN OLEH
ACHMAD YOGA

PILIHAN GANDA

1. BERAPAKAH HASIL DARI $4+1$

A.5

C.8

B.6

2. BERAPAKAH HASIL DARI $3-2$

A.2

C.4

B.1

3. ANDI MEMPUNYAI KELERENG 5, SEDANGKAN ARI MEMPUNYAI KELERENG 3. BERAPAKAH SELISIH KELERENG ANDI DAN ARI?

A. 2

C. 3

B. 1

ISIAN SINGKAT

1. HASIL DARI $10 - 4$ ADALAH

2. HASIL DARI $6 + 5$ ADALAH

3. HASIL DARI $20 - 5$ ADALAH

URAIAN

1. DIRUMAH CHIKA ADA 3 KIPAS ANGIN, ADA 1 KIPAS ANGIN YANG RUSAK. BERAPA KIPAS ANGIN YANG MASIH BERGUNA ?

2. DIRUMAH ANDI ADA MIE INSTAN 5, SETELAH ANDI MEMASAK MIE INSTAN 2 BERAPAKAH MIE INSTAN YANG MASIH TERSISA DIRUMAH ANDI ?

3. PAK BAGOS MEMBELI BUAH MANGGA 3, SETELAH ITU PAK BAGOS MEMBELI BUAH JERUK 5. BERAPAKAH BUAH YANG DIBELI PAK BAGOS ?



PENJUMLAHAN

WORD SEARCH




TEMUKAN JAWABAN YANG DI CANTUMKAN

A	C	E	B	I	D	S	F	G	C	A	R
H	I	J	K	B	T	E	A	M	J	M	N
R	M	O	T	O	R	P	I	K	U	O	P
T	I	G	A	R	W	U	R	Y	M	V	Q
R	A	B	D	T	C	L	P	D	L	A	G
U	H	K	O	L	M	U	L	N	A	N	U
C	V	B	Y	Z	T	H	A	I	H	X	W
K	U	R	A	N	G	Y	N	T	O	C	B
Q	G	S	C	O	O	T	E	R	F	A	W

- TIGA
- JUMLAH
- KURANG
- SEPULUH



MAKE A MATCH



.....4



.....3



.....2