

# PILIHAN GANDA

1. BERAPAKAH HASIL DARI  $4+1$

A. 5

C. 8

B. 6

2. BERAPAKAH HASIL DARI  $3-2$

A. 2

C. 4

B. 1

**3. ANDI MEMPUNYAI KELERENG 5, SEDANGKAN ARI MEMPUNYAI KELERENG 3. BERAPAKAH SELISIH KELERENG ANDI DAN ARI?**

**A. 2**

**C. 3**

**B. 1**

# ISIAN SINGKAT

**1. HASIL DARI  $10 - 4$  ADALAH**

**2. HASIL DARI  $6 + 5$  ADALAH**

**3. HASIL DARI  $20 - 5$  ADALAH**

# URAIAN

**1. DIRUMAH CHIKA ADA 3 KIPAS ANGIN, ADA 1 KIPAS ANGIN YANG RUSAK. BERAPA KIPAS ANGIN YANG MASIH BERGUNA ?**

**2. DIRUMAH ANDI ADA MIE INSTAN 5, SETELAH ANDI MEMASAK MIE INSTAN 2 BERAPAKAH MIE INSTAN YANG MASIH TERSISA DIRUMAH ANDI ?**

**3. PAK BAGOS MEMBELI BUAH MANGGA 3, SETELAH ITU PAK BAGOS MEMBELI BUAH JERUK 5. BERAPAKAH BUAH YANG DIBELI PAK BAGOS ?**



# PENJUMLAHAN

## WORD SEARCH




TEMUKAN JAWABAN YANG DI CANTUMKAN

|   |   |   |   |   |   |   |   |   |   |   |   |
|---|---|---|---|---|---|---|---|---|---|---|---|
| A | C | E | B | I | D | S | F | G | C | A | R |
| H | I | J | K | B | T | E | A | M | J | M | N |
| R | M | O | T | O | R | P | I | K | U | O | P |
| T | I | G | A | R | W | U | R | Y | M | V | Q |
| R | A | B | D | T | C | L | P | D | L | A | G |
| U | H | K | O | L | M | U | L | N | A | N | U |
| C | V | B | Y | Z | T | H | A | I | H | X | W |
| K | U | R | A | N | G | Y | N | T | O | C | B |
| Q | G | S | C | O | O | T | E | R | F | A | W |

- TIGA
- JUMLAH
- KURANG
- SEPULUH




# MAKE A MATCH



.....4



.....3



.....2