

บทที่ 2

เรื่อง การบวกจำนวนสองจำนวน ที่ผลบวกไม่เกิน 10 (ชุด 1)

1. ผลบวกในข้อใดเท่ากับ หก

ก.  กับ 

ข.  กับ 

ค.  กับ 

2. ผลบวกของจำนวนในข้อใดมีค่าน้อยที่สุด

ก.  กับ 

ข.  กับ 

ค.  กับ 

3. ผลบวกของจำนวนในข้อใดมีค่ามากที่สุด

ก.  กับ 

ข.  กับ 



ค.  กับ 

4. ข้อใดเป็นผลบวกของจำนวนในรูปที่กำหนดให้

ก. 6

ข. 8

ค. 9

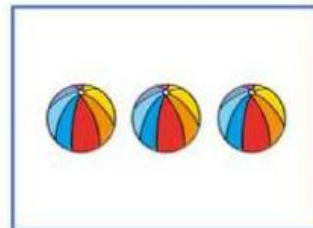
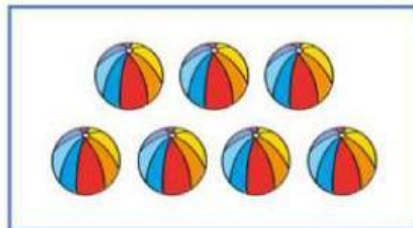


5. ข้อใดเป็นผลบวกของจำนวนในรูปที่กำหนดให้

ก. 7

ข. 8

ค. 10

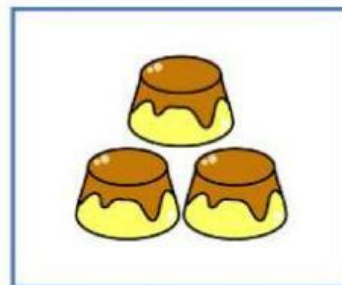
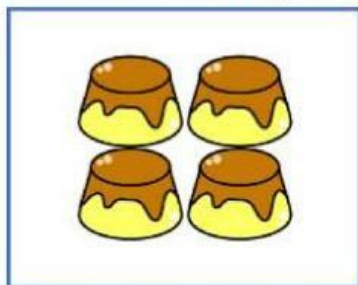


6. ข้อใดเป็นผลบวกของจำนวนในรูปที่กำหนดให้

ก. 7

ข. 5

ค. 3



7. ข้อใดเป็นผลบวกของจำนวนในรูปที่กำหนดให้

ก. ๕

ข. ๙

ค. ๖

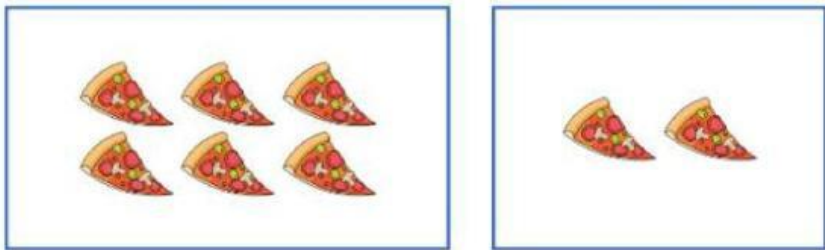


8. ข้อใดเป็นผลบวกของจำนวนในรูปที่กำหนดให้

ก. ๒

ข. ๕

ค. ๘

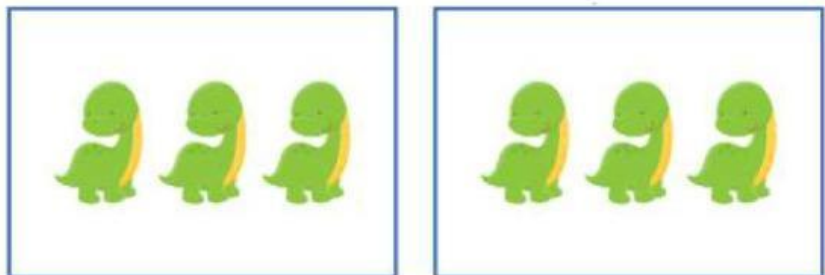


9. ข้อใดเป็นผลบวกของจำนวนในรูปที่กำหนดให้

ก. สี่

ข. ห้า

ค. หก




10. ข้อใดเป็นผลบวกของจำนวนในรูปที่กำหนดให้

ก. สิบ

ข. เก้า

ค. แปด



11. ข้อใดแสดงประโยคสัญลักษณ์และคำตอบตรงกับรูปที่กำหนดให้

ก. $4 + 2 = 6$

ข. $3 + 3 = 6$

ค. $5 + 2 = 7$




12. ข้อใดแสดงประโยคสัญลักษณ์และคำตอบตรงกับรูปที่กำหนดให้

ก. $4 + 2 = 6$

ข. $4 + 1 = 5$

ค. $5 + 0 = 5$





13. ข้อใดแสดงประโยคสัญลักษณ์และคำตอบตรงกับรูปที่กำหนดให้

ก. $4 + 4 = 8$

ข. $5 + 4 = 9$

ค. $5 + 3 = 8$




14. ข้อใดแสดงประโยคสัญลักษณ์และคำตอบตรงกับรูปที่กำหนดให้

ก. $4 + 6 = 10$

ข. $3 + 4 = 7$

ค. $3 + 6 = 9$

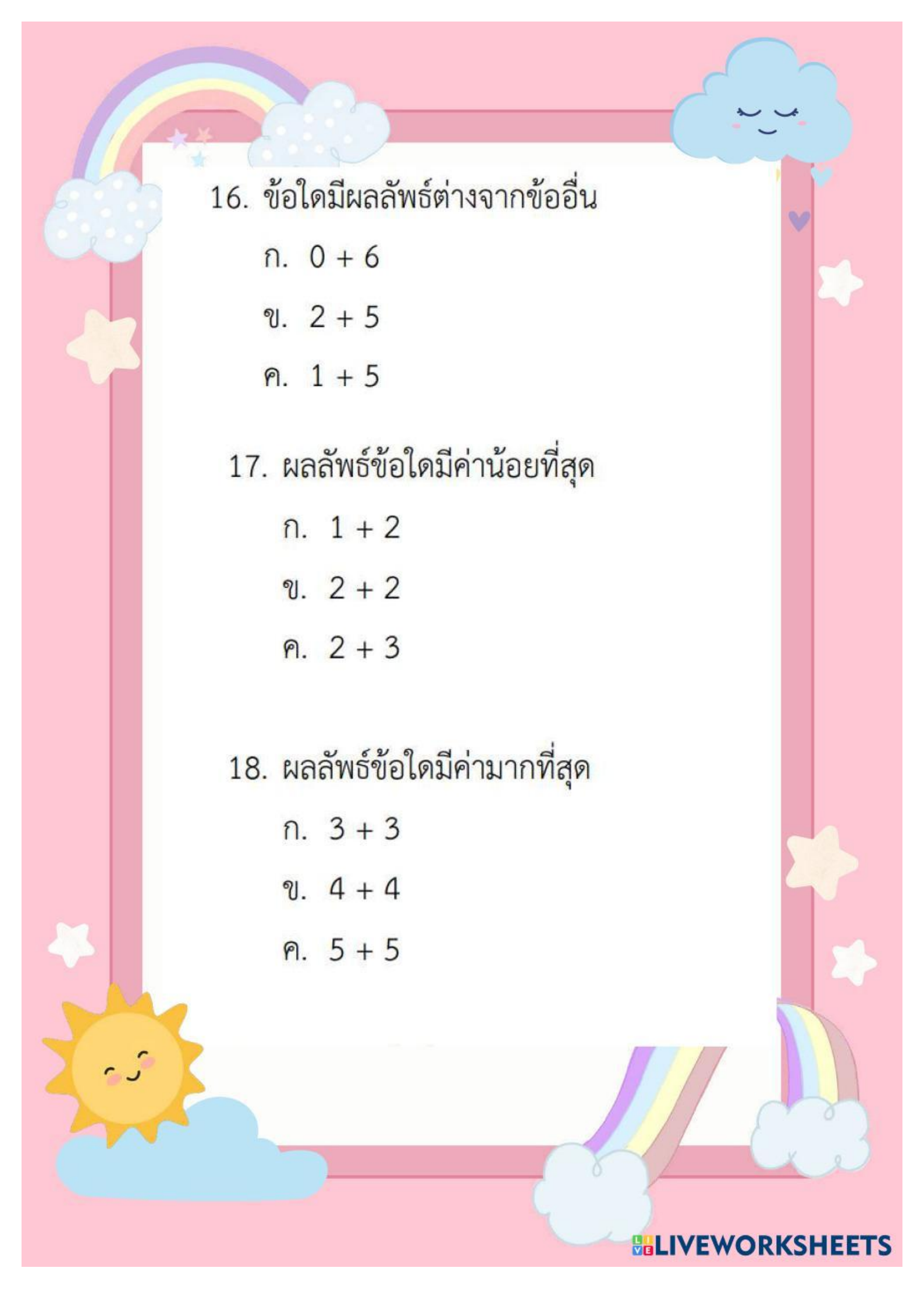


15. ข้อใดไม่ถูกต้อง

ก. $1 + 2 = 3$

ข. $2 + 4 = 6$

ค. $3 + 5 = 9$



16. ข้อใดมีผลลัพธ์ต่างจากข้ออื่น

ก. $0 + 6$

ข. $2 + 5$

ค. $1 + 5$

17. ผลลัพธ์ข้อใดมีค่าน้อยที่สุด

ก. $1 + 2$

ข. $2 + 2$

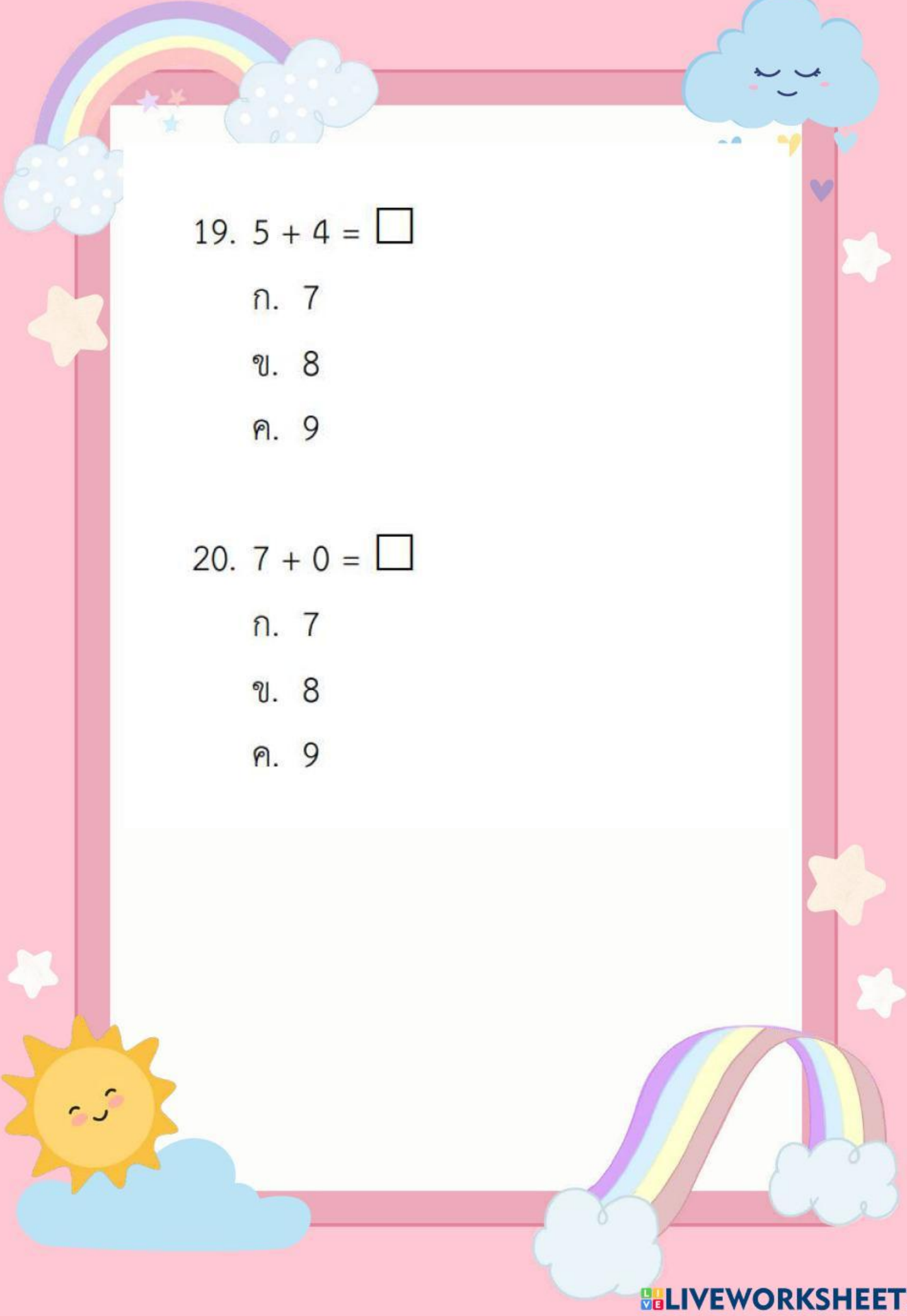
ค. $2 + 3$

18. ผลลัพธ์ข้อใดมีค่ามากที่สุด

ก. $3 + 3$

ข. $4 + 4$

ค. $5 + 5$



19. $5 + 4 = \square$

ก. 7

ข. 8

ค. 9

20. $7 + 0 = \square$

ก. 7

ข. 8

ค. 9