

Lembar Kerja Peserta Didik

# LKPD

## BANGUN DATAR

Nama : \_\_\_\_\_

Kelas : \_\_\_\_\_




$$A = \pi r^2$$



Disusun oleh : Damar Nugroho

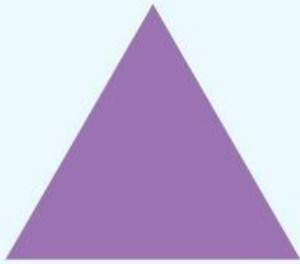
# AYO MENGENAL BANGUN DATAR

Hubungkan gambar bangun datar yang  
memiliki sisi yang sama!



# EVALUASI BANGUN DATAR

Pilihlah jawaban yang benar dengan memberi tanda silang (X) pada jawaban yang benar!



1. Berapa jumlah sisi segitiga ?

- A. 3
- B. 4
- C. 2

2. Mana yang termasuk bangun datar segiempat ?

- A. Segitiga sama kaki
- B. Lingkaran
- C. Trapesium



3. Berapa jumlah titik sudut lingkaran ?

- A. 2
- B. 5
- C. Tidak ada

## Materi Bangun Datar Kelas 1 SD

# BANGUN DATAR

Jawablah pertanyaan dibawah ini dengan  
benar dan tepat!

1




Nama bangun datar : .....

Banyak sisi : .....

Banyak titik sudut : .....

2



Nama bangun datar : .....

Banyak sisi : .....

Banyak titik sudut : .....

3



Nama bangun datar : .....

Banyak sisi : .....

Banyak titik sudut : .....