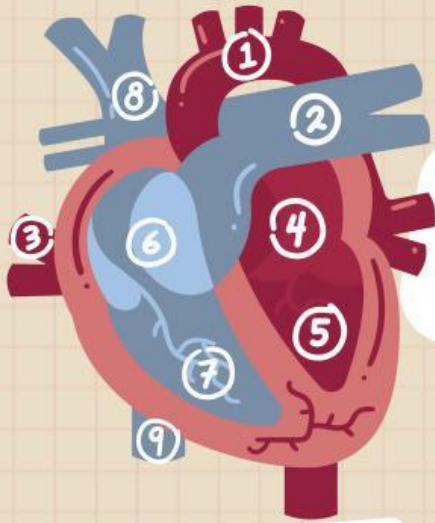


Lengkapi poster dengan meneliti, mengidentifikasi, dan menjelaskan fungsi bagian sistem peredaran darah.

Bagian-Bagian

Sistem

Peredaran Darah



Bagian-bagian jantung

- 1.....
- 2.....
- 3.....
- 4.....
- 5.....
- 6.....
- 7.....
- 8.....
- 9.....

PEMBULUH DARAH

(Tambahkan fungsi)

(BAGIAN TUBUH)

sirkulasikan darah, nutrisi, dan oksigen ke berbagai sel organ; menghubungkan arteri ke pembuluh darah

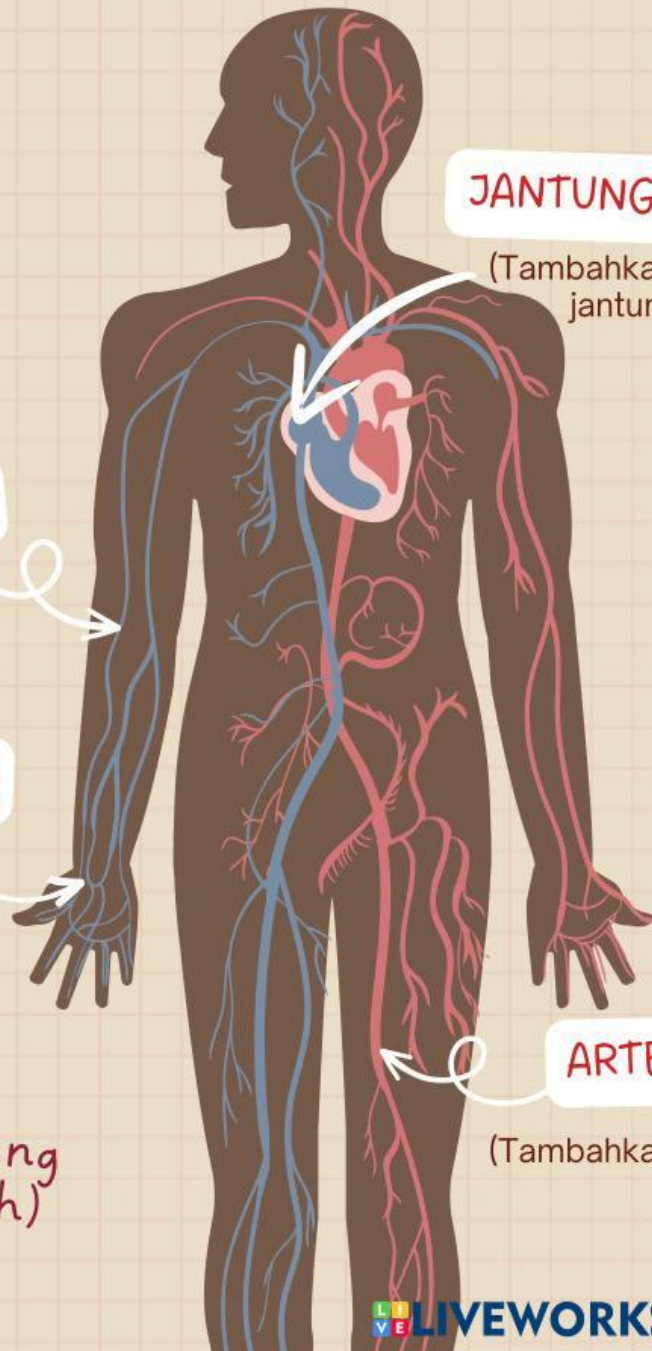
(Masukkan fakta tentang sistem peredaran darah)

JANTUNG

(Tambahkan fungsi) jantung :

ARTERI

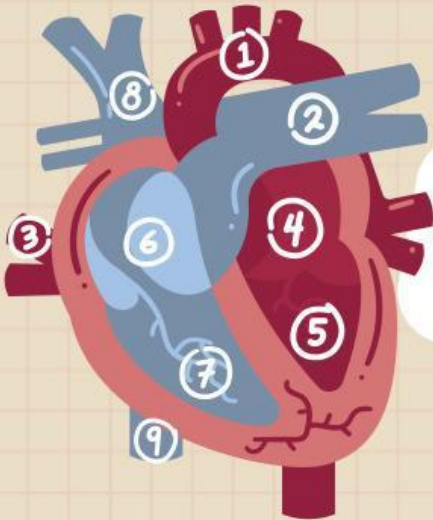
(Tambahkan fungsi)



Bagian-Bagian

Sistem

Peredaran Darah



Bagian-bagian jantung

1. Aorta
2. Arteri Pulmonalis
3. Vena Pulmonalis
4. Atrium kiri
5. Ventrikel kiri
6. Atrium kanan
7. Ventrikel Kanan
8. Vena cava superior
9. Vena cava Inferior

JANTUNG

organ otot yang memompa darah

PEMBULUH DARAH

mengangkut darah dari berbagai bagian tubuh ke jantung

KAPILER

sirkulasikan darah, nutrisi, dan oksigen ke berbagai sel organ; menghubungkan arteri ke pembuluh darah

ARTERI

mengangkut darah dari jantung ke berbagai bagian tubuh

Sistem peredaran darah terdiri dari sekitar 96.500 km pembuluh darah!