

An illustration of four children standing in a grassy field under a blue sky with white clouds and green trees. From left to right: a girl in a pink hijab and dress, a boy in a white shirt and brown pants waving, a boy in a white shirt and dark pants wearing a green cap, and a girl in a white hijab and blue dress. They are holding a large brown sign with white text.

LKPD Latihan
PELATIHAN TIK MTS KAB. SAMPANG

NAMA :

KELAS :

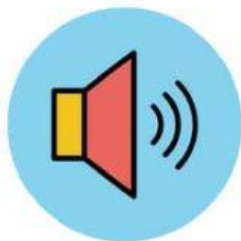
Memasukkan Materi



1. Dalam bentuk video dari Youtube !

2. Dalam bentuk link (tautan) materi !

3. Dalam bentuk Sound (suara) !



Isian Singkat (Textfield)

Jawablah pertanyaan berdasar pada cerita berikut ! Selamat mengerjakan !

KEBUN KAKEK

- Kakekku tinggal di desa Sukarame
- Kakekku adalah seorang petani
- Kakekku punya kebun yang luas
- Kebunnya ditanami sayuran
- Jika sudah libur sekolah, aku berkunjung kesana
- Disana aku membantu kakek menanam sayur



PERTANYAAN

1. Apa judul bacaan diatas ???

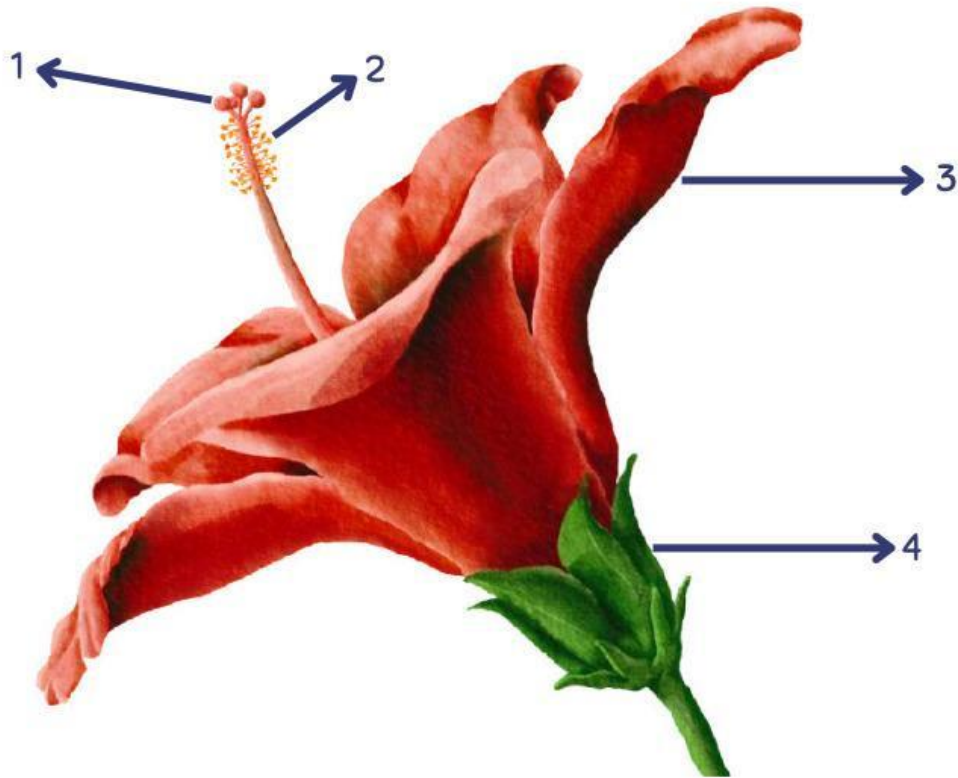
2. Apa pekerjaan kakek ??

3. Kebun kakek ditanami apa ??

4. Dimana kakek tinggal ??

Single Choice

Tuliskan bagian-bagian bunga beserta fungsinya sesuai yang ditunjukkan oleh anak panah!



berfungsi

Tempat penghasil sel telur
(alat kelamin betina)

berfungsi

Tempat penghasil serbuk sari
(alat kelamin jantan)

berfungsi

menarik perhatian serangga
agar hinggap pada bunga

berfungsi

melindungi bunga saat masih
kuncup

Checkboxes

- Tandai kotak yang sesuai dengan langkah-langkah yang benar dalam melakukan wudhu

- Menggosok gigi
- Mencuci tangan hingga siku
- Memakai Sepatu
- Mengusap kepala
- Membasuh kaki hingga mata kaki
-



- Kabupaten/Kota yang termasuk wilayah propinsi Jawa Timur.

Probolinggo

Banjarnegara

Purbalingga

Pamekasan

Bojonegoro

Majalengka

Select (pilihan ganda)

- Proses fotosintesis pada tumbuhan terjadi di bagian:



- Produk utama dari proses fotosintesis adalah:



- A. Protein B. Glukosa C. Lemak D. Asam amino

Word Search



Sejarah Kerajaan di Indonesia

Temukan dan warnai kata sesuai dengan pertanyaan!

C	A	N	T	I	L	H	V	A	S	U	G	A	I	W
A	N	T	A	B	R	A	H	M	A	N	A	T	R	A
S	S	I	N	G	A	S	U	N	T	G	I	R	A	L
A	I	A	G	H	J	A	Y	A	B	A	Y	A	S	I
N	N	N	G	A	A	N	U	M	U	U	T	S	W	S
S	G	G	A	J	I	U	N	A	R	Y	U	P	A	O
E	A	R	C	A	L	D	G	U	A	R	P	A	R	N
K	S	U	A	R	A	D	A	N	A	U	I	N	K	G
E	A	S	I	I	N	I	B	D	S	S	N	A	U	O
R	R	U	N	S	D	N	I	I	A	A	G	K	T	N
T	I	N	G	K	I	T	A	B	U	D	D	H	A	T
A	R	I	G	A	J	A	H	M	A	D	A	R	I	E

1. Ajaran agama Hindu masuk ke Indonesia disebarkan oleh pendeta _____
2. Prasasti ditulis dengan menggunakan bahasa _____
3. Raja yang membawa Kerajaan Kediri meraih puncak kejayaan adalah Raja _____
4. Raja yang dijuluki "Ayam Jantan dari Timur" adalah Sultan _____
5. Candi Borobudur merupakan peninggalan kerajaan yang bercorak agama _____
6. Kerajaan yang didirikan oleh Ken Arok adalah _____
7. Panglima perang yang terkenal dari Kerajaan Majapahit adalah _____
8. Sembilan wali yang ikut menyebarkan ajaran agama Islam di Demak disebut _____
9. Prasasti Mulawarman disebut juga _____
10. Kerajaan Hindu tertua di Indonesia adalah Kerajaan _____

Drop and Down

RANTAI MAKANAN

Amatilah gambar rantai makanan berikut dan letakkanlah kotak pada posisi yang tepat!

Produsen

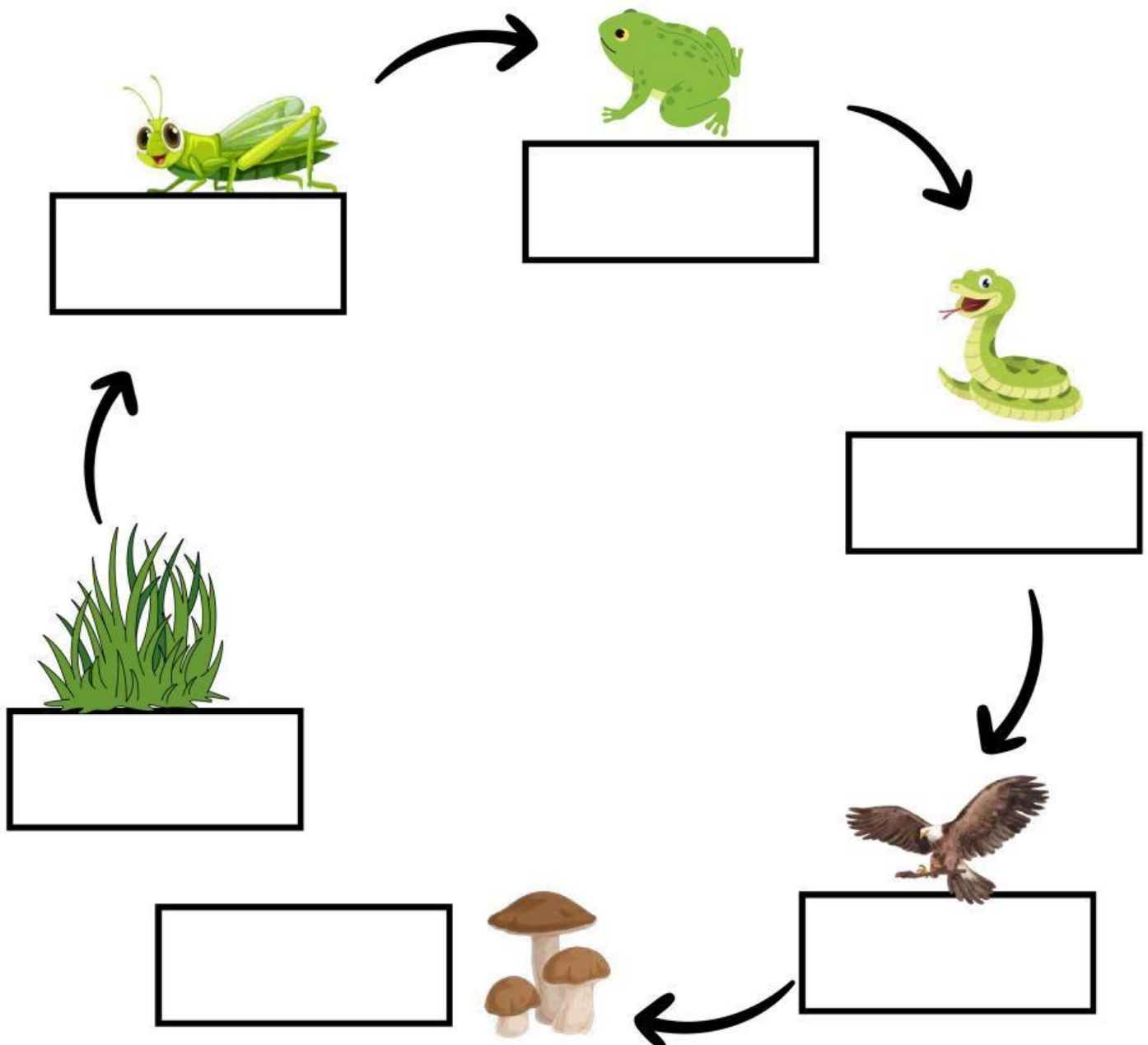
Konsumen Primer

Konsumen Sekunder

Konsumen Tersier

Konsumen Final


Dekomposer



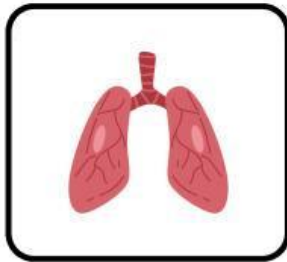
Join

FUNGSI ORGAN TUBUH MANUSIA

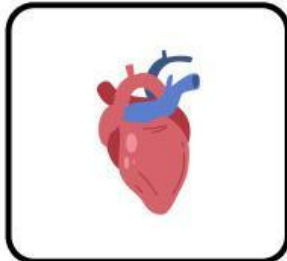
Hubungkan gambar organ tubuh manusia sesuai dengan fungsinya!



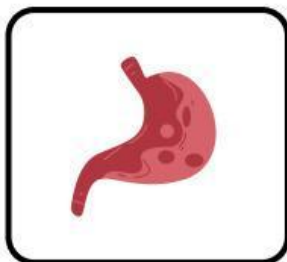
Saluran pencernaan



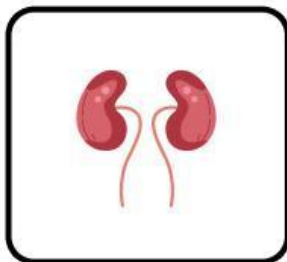
Mengendalikan berbagai fungsi tubuh dan proses mental



Menyaring darah, menghilangkan limbah dan menghasilkan urin



Organ otot yang memompa darah ke seluruh tubuh



Organ pernapasan utama yang memungkinkan pertukaran gas

Open Question

DATANGNYA BANGSA-BANGSA ASING KE INDONESIA

Carilah informasi berkaitan dengan datangnya bangsa-bangsa asing ke Indonesia, kemudian tuliskan informasi yang kalian dapatkan dari berbagai sumber!



Bangsa dari mana saja yang datang ke Indonesia?

Apa tujuan bangsa-bangsa asing datang ke Indonesia?

Apa yang dilakukan oleh rakyat Indonesia terhadap bangsa asing tersebut?