



Kampus
Merdeka
INDONESIA JAYA



LKPD SUDUT

Nama :
Kelas :

Kelas

V

Nama :

Kelas :

Temukan sudut yang tidak diketahui untuk setiap gambar. Pilih jawabanmu dari opsi yang disediakan dan seret untuk melengkapi sudut.

| No | Gambar | Keeterangan | Jenis Sudut yang Terbentuk |
|----|---|--|--|
| 1 |  | Sudut yang terbentuk oleh jarum pendek dan panjang saat jam menunjukkan pukul 08.00. | <input type="checkbox"/> Lancip <input type="checkbox"/> Siku-siku <input type="checkbox"/> Tumpul |
| 2 |  | Sudut pada persimpangan jalan. | <input type="checkbox"/> Lancip <input type="checkbox"/> Siku-siku <input type="checkbox"/> Tumpul |
| 3 |  | Sudut yang terbentuk saat sebuah kipas dibuka. | <input type="checkbox"/> Lancip <input type="checkbox"/> Siku-siku <input type="checkbox"/> Tumpul |
| 4 |  | Sudut yang terbentuk saat gunting dibuka. | <input type="checkbox"/> Lancip <input type="checkbox"/> Siku-siku <input type="checkbox"/> Tumpul |
| 5 |  | Sudut pada pojokan jendela | <input type="checkbox"/> Lancip <input type="checkbox"/> Siku-siku <input type="checkbox"/> Tumpul |

Nama :

Kelas :

Temukan sudut yang tidak diketahui untuk setiap gambar. Pilih jawabanmu dari opsi yang disediakan dan seret untuk melengkapi sudut.

180°

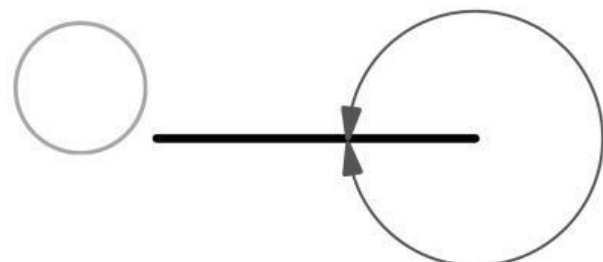
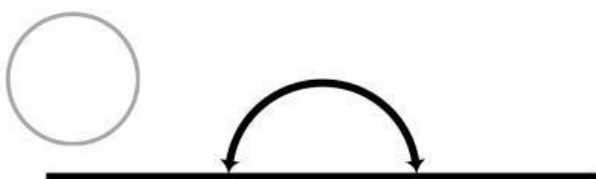
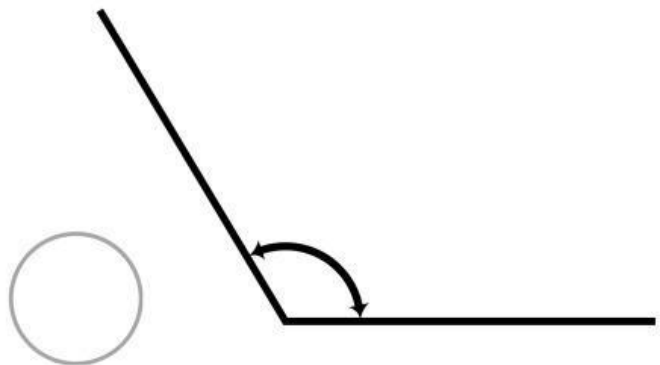
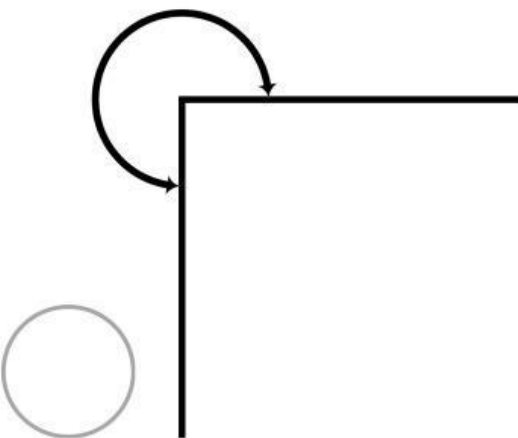
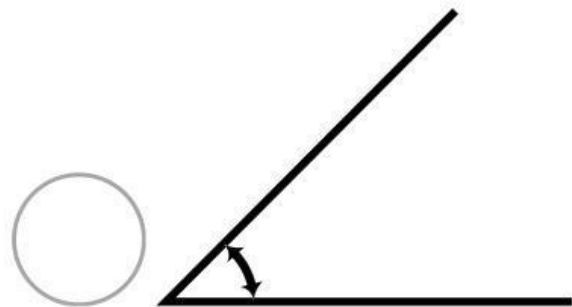
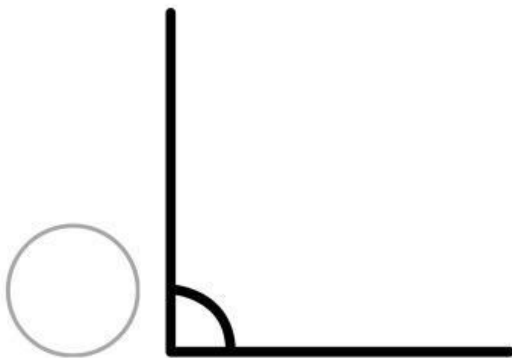
90°

45°

360°

120°

270°




Nama :

Kelas :

AYO BUAT SUDUT

Gambarlah 2 buah sudut tumpul dan 2 buah sudut lancip dengan menggunakan jarum pendek dan panjang pada jam analog. Kemudian beri keterangan pukul berapa yang ditunjukkan oleh jarum jam tersebut.



Pada pukul 02.00 jarum pendek dan jarum panjang pada jam analog membentuk sudut lancip



Sekarang, teman-teman, ayo kita buat sudut tumpul dan sudut lancip menggunakan jarum jam seperti contoh di atas. Buat sudut yang berbeda dengan contoh, ya.



Nama :

Kelas :

AYO BUAT SUDUT!

