



Kurikulum
Merdeka

MERDEKA
BELAJAR



Merdeka
Mengajar

Asesmen Diagnostik

KOGNITIF

Oleh: Nurdin Haritsyah, S.Pd. SD
Tahun Pelajaran 2023/2024

MATEMATIKA

PENAMBAHAN DAN PENGURANGAN

Nama: _____ Kelas: _____

$13 - 7 =$

$12 + 5 =$

$13 + 9 =$

$21 - 2 =$

$12 + 13 =$

$22 - 7 =$

$16 - 11 =$

$11 + 9 =$

$16 + 8 =$

$10 - 7 =$

$3 + 18 =$

$15 - 6 =$

$15 - 9 =$

$23 + 15 =$

$12 + 19 =$

$27 - 11 =$

$7 + 15 =$

$22 - 5 =$

$13 - 8 =$

$31 + 4 =$

$23 + 4 =$

$21 - 11 =$

$15 + 7 =$

$11 - 7 =$

$25 - 19 =$

$32 + 7 =$

$22 + 9 =$

$12 - 7 =$

$13 + 9 =$

$22 - 4 =$

$23 - 8 =$

$3 + 26 =$

$23 + 6 =$

$21 - 10 =$

$5 + 19 =$

$12 - 8 =$

Pancasila

Nama:

Kelas :

Hubungkan lambang dengan bunyi silanya !



● 1 . Ketuhanan yang Maha Esa.



● 2 .Kemanusiaan yang adil dan beradab.



● 3 .Persatuan Indonesia.



● 4 .Kerakyatan yang dipimpin oleh hikmat kebijaksanaan dalam permusyawaratan/perwakilan.



● 5 .Keadilan sosial bagi seluruh rakyat Indonesia..

Nama:

Kelas:

Pemahaman Bacaan

Topik: Hewan Ternak

Bacalah dengan seksama cerita di bawah ini. Berdasarkan cerita tersebut, jawablah pertanyaan yang diberikan.

Domba adalah hewan ternak. Mereka dapat menghasilkan wol dan susu. Domba makan rumput dan jerami. Domba senang berkumpul bersama kawanannya. Domba memiliki bulu yang lembut dan lebat. Domba menyediakan wol untuk pakaian.



❶ Apa saja yang dapat dihasilkan oleh domba?

❷ Apakah domba lebih senang menyendiri?

❸ Apa karakteristik dari bulu domba?

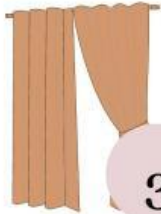
Living Room




1



2



3



4



5



6



7



8



9



10

1

2.

3.

4.

5.

6.

7.

8.

9.



10.

Name :

Class :

PERKEMBANGAN KATAK

Tuliskan bilangan pada lingkaran di setiap gambar sesuai urutan Perkembangan Hidup Katak.



Refleksi Pembelajaran

Nama:

Pelajaran:

Kelas:

Tanggal:

Saya baru belajar mengenai

Kegiatan yang paling saya sukai

Kegiatan yang paling sulit

Hal yang perlu saya lakukan untuk menjadi lebih baik

