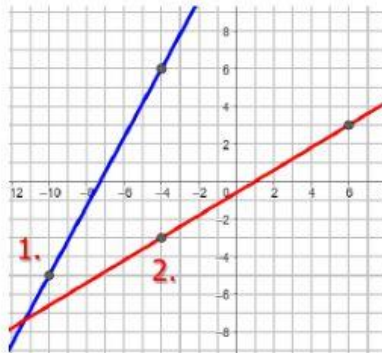


# Pendiente de una Línea

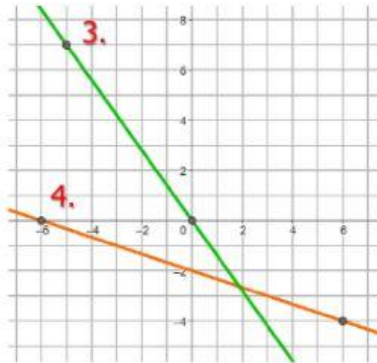
Sra. Silva  
8vo grado  
Álgebra  
Valor: 20 pts.

A. Observa cada línea. Escribe en el espacio provisto el número que representa la pendiente. Recuerda anotar el  $-$  cuando la pendiente sea negativa. Simplifica la pendiente siempre que sea posible. (12 puntos)



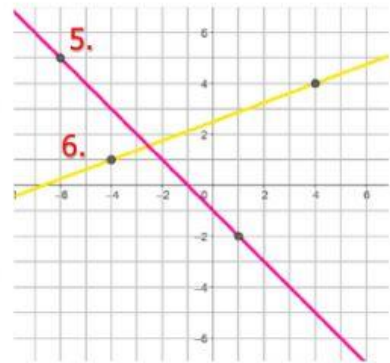
1.  $m =$  \_\_\_\_\_

2.  $m =$  \_\_\_\_\_



3.  $m =$  \_\_\_\_\_

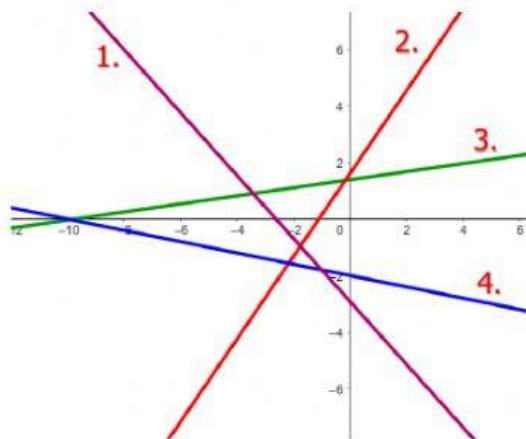
4.  $m =$  \_\_\_\_\_



5.  $m =$  \_\_\_\_\_

6.  $m =$  \_\_\_\_\_

B. Observa cada línea. Clasifica las pendientes como positivas o negativas. (8 puntos)



Línea 1 tiene pendiente \_\_\_\_\_.

Línea 2 tiene pendiente \_\_\_\_\_.

Línea 3 tiene pendiente \_\_\_\_\_.

Línea 4 tiene pendiente \_\_\_\_\_.