



Lembar Kerja Peserta Didik

MATEMATIKA



MATERI PECAHAN



Capaian Pembelajaran

Pada akhir kelas V, peserta didik dapat menunjukkan pemahaman dan intuisi bilangan (number sense) pada bilangan cacah sampai 1.000.000. Mereka dapat membaca, menulis, menentukan nilai tempat, membandingkan, mengurutkan, serta melakukan komposisi dan dekomposisi bilangan tersebut. Mereka juga dapat menyelesaikan masalah yang berkaitan dengan uang. Mereka dapat melakukan operasi penjumlahan dan pengurangan bilangan cacah sampai 100.000. Mereka juga dapat menyelesaikan masalah yang berkaitan dengan KPK dan FPB. Peserta didik dapat membandingkan dan mengurutkan berbagai pecahan termasuk pecahan campuran serta melakukan operasi penjumlahan dan pengurangan bilangan pecahan dengan bilangan asli.

Alur Tujuan Pembelajaran

- Membandingkan bilangan pecahan.
- Mengurutkan bilangan pecahan.
- Melakukan penjumlahan dengan penyebut sama.
- Melakukan penjumlahan dengan penyebut beda.
- Melakukan pengurangan dengan penyebut sama.
- Melakukan pengurangan dengan penyebut beda.

Petunjuk Pengerjaan E-LKPD

- Lengkapi Nama dan Kelas terlebih dahulu.
- Cermati dan pahami dengan baik, materi yang diberikan.
- Jawablah setiap pertanyaan dengan benar.
- Jika mengalami kesulitan atau ada pertanyaan yang kurang dipahami, tanyakan kepada guru.

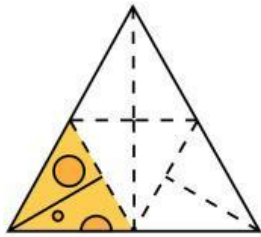
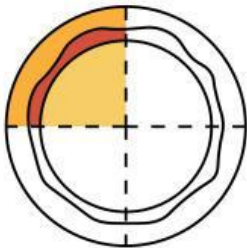
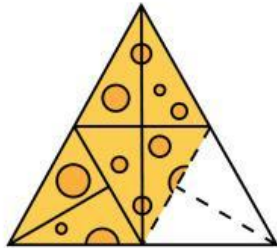
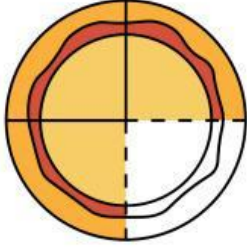

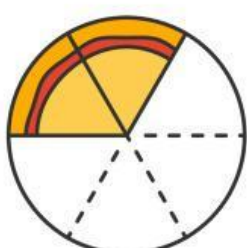
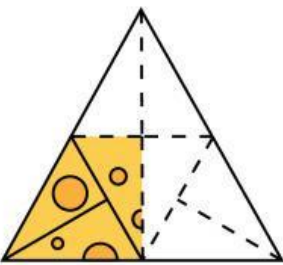
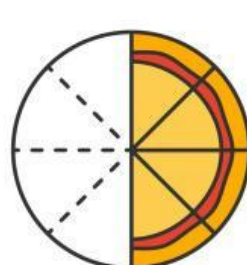


Nama: _____

Kelas: _____

Pecahan

Tentukanlah nilai pecahan dari gambar berikut ini.

| | | | | | |
|---|---|-------|--|---|-------|
|  | = | _____ |  | = | _____ |
|  | = | _____ |  | = | _____ |
|  | = | _____ |  | = | _____ |
|  | = | _____ |  | = | _____ |

1

Lisa membeli $\frac{2}{3}$ kg apel dan $\frac{3}{4}$ kg jeruk. Berapa kg total buah yang dibeli oleh Lisa?

2

Rina memiliki $\frac{7}{8}$ liter susu. Dia menggunakan $\frac{1}{2}$ liter untuk membuat kue. Berapa liter susu yang tersisa?

3

Adi membeli $1\frac{1}{4}$ kg tepung dan ibunya membeli lagi $2\frac{2}{5}$ kg tepung. Berapa total tepung yang mereka beli?

4

Budi memiliki $\frac{5}{6}$ liter jus. Dia minum $\frac{1}{3}$ liter. Berapa liter jus yang tersisa?

5

Siti memiliki $\frac{3}{5}$ kg gula. Dia membeli lagi $\frac{2}{3}$ kg gula, dan kemudian menggunakan $\frac{4}{5}$ kg untuk membuat kue. Berapa kg gula yang tersisa?