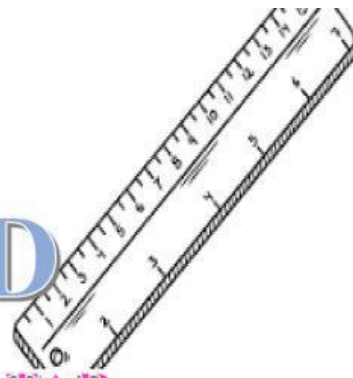




# LKPD


## BANGUN DATAR



**Perhatikan video berikut ini :**



**Perhatikan materi presentasi berikut ini :**



### **1. TEKSFIELD**

Bangun datar segi empat yang keempat sisi sama Panjang  $90^\circ$



## 2. SINGLE CHOICE

berikut ini yang bukan merupakan bangun datar



## 3. CHECKBOXES

Pertanyaan yang benar adalah



Persegi memiliki 4 sisi



lingkaran memiliki 6 sisi



segitiga memiliki 3sisi

## 4. SELECT

Nama bangun datar di bawah ini adalah..



Persegi



segitiga



Persegi Panjang



Lingkaran


## 5. WORLD SEARCH

Temukan 2 kata di bawah ini

S	S	I	S	I
M	U	L	I	N
O	S	D	K	T
K	D	C	U	K
U	G	M	X	T

## 6. SPEAK

Sebutkan bangun datar berikut ini dengan benar




## 7. LISTENING

Dengarkan dan tuliskan jawaban kembali dengan benar.



## 8. DRAG AND DROP

Tentukan rumus yang sesuai dengan gambar



$L = \text{panjang} \times \text{lebar}$

$L = \frac{1}{2} \times \text{alas} \times \text{tinggi}$

$L = \pi \times r \times r$