

Nama : \_\_\_\_\_

Kelas : \_\_\_\_\_

# LKPD

## CIRI-CIRI SEGITIGA

Setelah membaca bahan ajar, jawablah pertanyaan dibawah ini dengan benar!

### TUJUAN PEMBELAJARAN:

Siswa dapat menuliskan ciri-ciri segitiga (sama kaki, sama sisi, sembarang, lancip, tumpul dan siku-siku)



1 Segitiga yang ketiga sisinya sama panjang adalah segitiga? \_\_\_\_\_

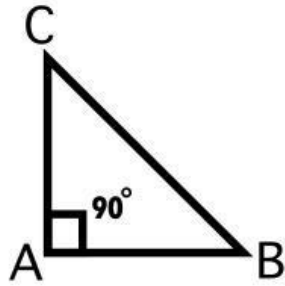
2 Segitiga yang memiliki 2 sisi sama panjang adalah segitiga? \_\_\_\_\_

3 Segitiga yang semua sudutnya kurang dari 90 derajat adalah segitiga? \_\_\_\_\_

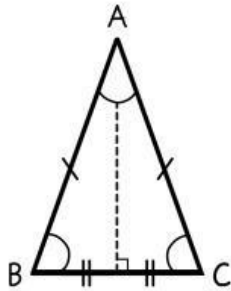


4


Pasangkanlah nama segitiga dengan gambar yang tepat!



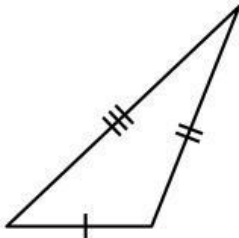
Segitiga Sama Sisi



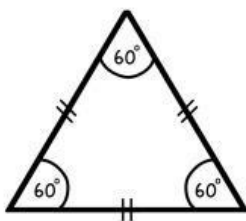
Segitiga Sama Kaki



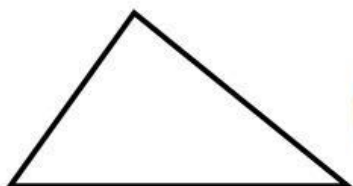
Segitiga Sembarang



Segitiga Siku-siku



Segitiga Lancip



Segitiga Tumpul