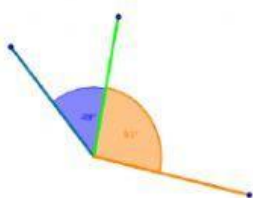
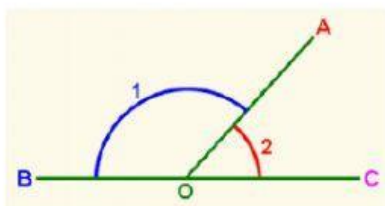


Nombre y apellidos:

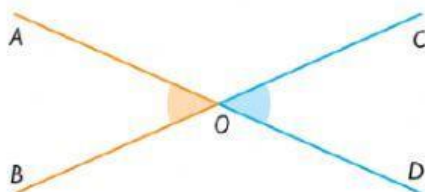
Selecciona la respuesta correcta:



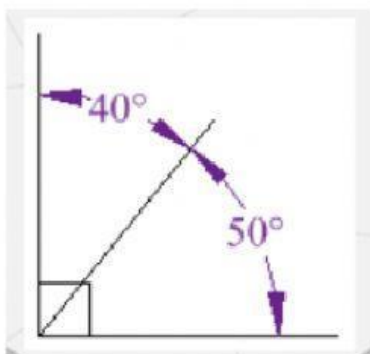
Consecutivos	Adyacentes
Complementarios	Opuestos por el vértice



Consecutivos	Adyacentes
Complementarios	Opuestos por el vértice



Consecutivos	Adyacentes
Complementarios	Opuestos por el vértice



Consecutivos	Adyacentes
Complementarios	Opuestos por el vértice