



# LKPD BANGUN DATAR



1. Perhatikan Video Berikut:



2. Perhatikan Materi Presesntasi Berikut Ini:



Materi



Materi





## LKPD BANGUN DATAR



### 1. TEKS FIELD

Bangun datar segi empat yang keempat sisinya sama Panjang dan keempat sudutnya siku-siku  $90^\circ$  adalah...



### 2. SINGLE CHOICE

Berikut ini yang bukan merupakan bangun datar adalah...



### 3. CHECK BOXES

Pernyataan yang benar adalah...

Persegi memiliki 4 sisi


Segitiga memiliki 3 sisi

Lingkaran memiliki 6 sisi



### 4. SELECT

Nama bangun datar di bawah ini adalah...



Persegi

Segitiga

Persegi Panjang

Lingkaran





## LKPD BANGUN DATAR



### 5. WORD SEARCH

Temukan 3 kata pada kotak di bawah ini...



S	S	I	S	I
M	U	L	I	N
O	S	D	K	T
D	K	C	U	K
U	G	X	M	T

### 6. SPEAK

Nama bangun datar di bawah ini adalah...



### 7. LISTENING

Dengarkan suara berikut dan tuliskan jawabannya dengan tepat!



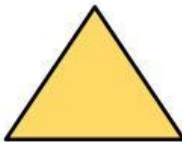



## LKPD BANGUN DATAR



### 8. DRAG AND DROP

Tentukan rumus yang sesuai dengan gambar!




$$L = \frac{1}{2} \times a \times t$$

$$L = p \times l$$

$$L = \pi r^2$$

### 9. JOIN

Buatlah garis ke jawaban yang benar!



Persegi Panjang



Lingkaran



Segitiga

