



PPG
prajabatan

Lembar Kerja Peserta Didik STATISTIKA

MATERI MEAN/VIII

Oleh : Ade Rahayu Wulandari, S.Pd.




Petunjuk pengerjaan LKPD

1. Cantumkan identitas kalian pada tempat yang telah disediakan
2. lakukan setiap langkah kerja yang terdapat pada LKPD
3. kerjakan dengan rasa penuh tanggungjawab dan disiplin
4. Jika ada yang tidak dipahami, tanyakan kepada guru
5. jika telah menyelesaikan pekerjaan di LKPD, periksa
6. kembali dan kumpulkan kepada guru

Tujuan Pembelajaran

1. Peserta didik dapat menentukan nilai rata-rata (mean) dari suatu data dengan benar
2. Peserta didik dapat menyelesaikan masalah yang berkaitan dengan nilai rata-rata (mean) dengan benar



Kelompok :
Kelas :
Mata Pelajaran :
Nama : 1.
2.
3.
4.
5.
6.




Masalah 1

pernahlah kalian mengetahui berapakah usia wakil presiden Indonesia saat pertama kali menjabat? tahukah kalian, bahwa di antara wakil presiden yang pernah menjabat, Gibran Rakabuming Raka adalah yang paling muda. Tentukan rata-rata usia wakil presiden saat pertama kali menjabat!

“

”




Jika bilangan yang kamu dapatkan diatas adalah rata-rata (mean) usia wakil presiden saat pertama kali dilantik, bagaimana rumus umum mendapatkan rata-rata usia wakil presiden saat pertama kali dilantik?

“

”

Masalah 2

Kunjungan wisatawan lokal maupun mancanegara ke salah satu destinasi wisata di Lampung yakni Pantai Marina di Kabupaten Lampung Selatan, meningkat setiap tahunnya. Pada tahun 2016 total kunjungan wisatawan ke Pantai sekitar 10.000 pengunjung, pada tahun 2017 total pengunjung sekitar 11.000, pada tahun 2018 total pengunjung sekitar 11.000, pada tahun 2019 total pengunjung sekitar 12.000, pada tahun 2020 total pengunjung sekitar 13.000, pada tahun 2021 total pengunjung sekitar 14.000, pada tahun 2022 total pengunjung sekitar 15.000, dan pada tahun 2023 total pengunjung sekitar 16.000.





berdasarkan data diatas jawablah pertanyaan-
pertanyaan berikut ini :

1. data tertinggi pengunjung pantai marina terjadi pada tahun berapa ?
2. berapakah rata-rata pengunjung Pantai Marina dalam waktu 8 tahun terakhir ?

“

Penyelesaian Soal Nomor 1

”

“

Penyelesaian Soal Nomor 2

”

Ayo Bekerja dalam Kelompok!!

“

Silahkan kalian mencari data di sekitar kalian (data berat badan dalam kelompok, data tinggi badan, dll). kemudian kalian tentukan rata-ratanya dan presentasikan hasilnya

”



“

Bagaimana perasaanmu pada proses pembelajaran hari ini ?

”

“

Dari Angka 1-10, coba kalian tuliskan angka yang menggambarkan pemahaman kalian terhadap materi hari ini !

”

