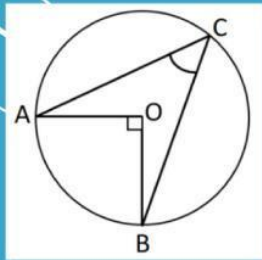
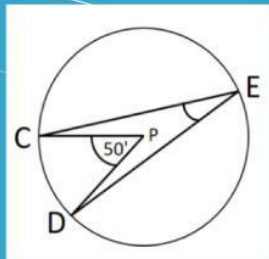


ASESMEN

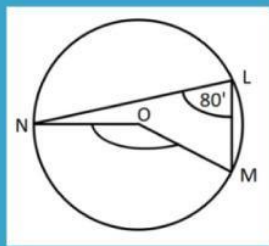
SUDUT PUSAT SUDUT KELILING



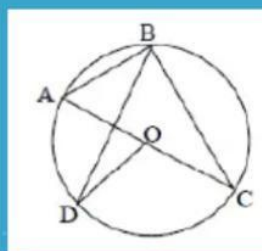
Besar Sudut ACB adalah....



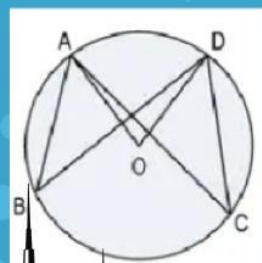
Besar Sudut CED adalah....



Besar Sudut NOM adalah....



AC adalah diameter sebuah lingkaran dan sudut AOD = 80'. Maka besar sudut CBD adalah



Perhatikan gambar disamping, yang memiliki pusat O, jika $\angle ABD + \angle AOD + \angle ACD = 140'$ maka besar nilai $\angle ABD = \dots$



NAMA :
KELAS :