



SOAL EVALUASI

KELILING & LUAS BANGUN DATAR

Identitas Siswa

Nama :

No. Absen:

Kelas :

ak



SOAL EVALUASI


1. Mbok Rai akan membuat sebuah aledan yang mempunyai luas 100 cm^2 . Tentukan sebanyak mungkin bangun datar segiempat yang mempunyai luas tersebut dan sebutkan ukuran - ukurannya!




Perhatikan gambar banten pejati di bawah ini !

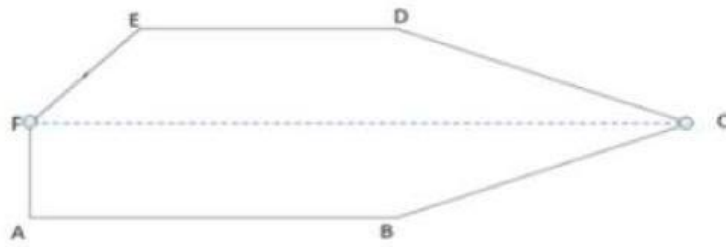


2. Apa saja jenis bangun datar yang terdapat pada banten pejati disamping dan bagaimana rumus keliling dan luas bangun datar tersebut?






Perhatikan gambar di bawah ini

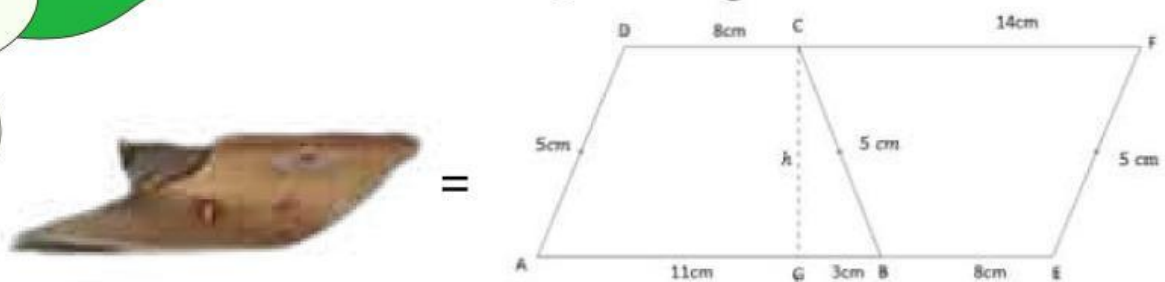


3. Buatlah bangun datar segiempat lainnya yang dapat dibentuk dari gambar tersebut sebanyak mungkin !





Perhatikan gambar di bawah ini



4. Tentukan sebanyak mungkin luas - luas bangun datar segiempat yang dapat terbentuk dari gambar tersebut!

