

LEMBAR KERJA PESERTA DIDIK
BANGUN DATAR
LKPD





PERHATIKAN VIDEO DI BAWAH INI!




Cocokkanlah gambar
dibawah ini sesuai dengan
nama bentuk bangun datar
yang sesuai



Lingkaran




segitiga



segiempat

langkah kegiatan:

- 1. Amati gambar bangun datar dibawah ini**
- 2. hitunglah jumlah masing-masing bangun datar yang ada pada gambar**



GambarMewarnai.com

1. jumlah segitiga ada.


2. jumlah segiempat ada.

3. jumlah lingkaran ada.

1. Tentukan hasil dari $-3 + 5 = \dots$

- a. 2
- b. 3
- c. -2
- d. -3

2. Manakah yang merupakan gambar bangun datar lingkaran...



3. Hubungkan dengan garis yang sesuai antara lambang bilangan dan cara membacanya

Dua Puluh	60
Tiga Puluh Satu	25
Dua Puluh Lima	31
Enam Puluh	20
	35

4. Sebutkan nama bangun datar dibawah ini



5. Manakah pernyataan di bawah ini yang merupakan ciri-ciri dari bangun datar berikut ini!



- Memiliki 4 titik sudut
- Besar tiap sudut tidak sama
- Dua sisi yang sejajar sama panjang
- Memiliki 4 sisi

