



PEMERINTAH KABUPATEN SINJAI
DINAS PENDIDIKAN
SD NEGERI 69 BALANG-BALANG KEC. SINJAI BARAT

Alamat :Jln. Balakia NO.A18 Kel. Balakia, Kec. Sinjai Barat Kab. Sinjai ✉92653

SOAL PENILAIAN AKHIR TAHUN (PAT)

Tema : 7.Peristiwa Dalam Kehidupan
Kelas/ Smt : V (Lima)/ Genap
Tahun Pelajaran: 2023/2024

Nama Siswa :

Mapel	No. Soal	Nilai	Ketuntasan	TTD Guru	TTD Orang Tua
PPKn	1,5,9,17		Tuntas / Remedial		
Indonesia	2,10,13,18		Tuntas / Remedial		
IPA	3,6,14,19		Tuntas / Remedial		
IPS	4,7,11,15		Tuntas / Remedial		
SBdP	8,12,16,20		Tuntas / Remedial		

A. PILIHAN GANDA

Jawablah pertanyaan di bawah ini dengan memberi tanda silang (x) pada pilihan jawaban yang paling benar!

1. Perhatikan gambar di bawah ini !



Berdasarkan gambar di atas menunjukkan bahwa di dalam masyarakat Indonesia terdapat....

- A. keragaman religi
- B. keragaman makanan
- C. keragaman pakian adat
- D. keragaman tempat ibadah

2. Perhatikan paragraph Berikut !

Pencemaran udara di DKI Jakarta sudah semakin parah. Untuk mengatasi hal tersebut, pemuda DKI Jakarta melakukan langkah –langkah pencegahan dampak buruk dari pencemaran udara. Di antaranya adalah membuat jalur hijau di sepanjang jalan – jalan utama di kota Jakarta. Pemerintah juga melakukan program menghutangkan kembali area kosong di wilayah sekitar Menumen nasional (Monas). Akan tetapi, hal ini belum dapat mengatasi masalah pencemaran udara. Akhirnya, kembali kepada kesadaran masyarakat pengguna jalan untuk selalu melakukan pengecekan (Uji emisi)kendaraanya. Hal ini dilakukan agar gas buangnya kendaraan masih di ambang batas. Selain itu, penggunaan bahan bakar gas untuk kendaraan bermotor dapat menjadi alternative yang baik untuk mendukung program langit biru Jakarta

- A. Pemerintah melakukan program melepas burung di hutan kota sekitar monas untuk mengurangi dampak pencemaran udara.
- B. Pemerintah DKI Jakarta melarang masyarakat menggunakan kendaraan bermotor untuk mengurangi dampak buruk pencemaran udara.
- C. Mengatasi dampak pencemaran udara bias dilakukan dengan menghambat munculnya kabut tipis yang berbentuk dari kumpulan gas buangan kendaraan bermotor.
- D. Menghutangkan kembali areal kosong di wilayah sekitar monument Nasional (Monas) merupakan salah satu langkah pencegahan dampak pencemaran udara.
3. Perhatikan gambar di bawah ini!



Berdasarkan gambar di atas terjadi perubahan wujud benda dari benda

- A. cair menjadi gas
- B. gas menjadi cair
- C. padat menjadi gas
- D. cair menjadi padat
4. Perhatikanlah gambar di bawah ini !



Gambar di atas merupakan pahlawan yang melawan penjajah belanda di daerah

- A. Aceh
- B. Tidore
- C. Maluku
- D. Ternate
- B. PILIHAN GANDA KOMPLEKS

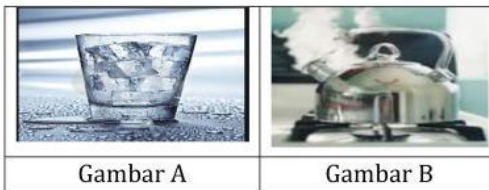
5. Perhatikanlah gambar di bawah ini !



Berdasarkan gambar di atas , berilah tanda centang (✓) pada jawaban yang **benar** atau **salah** yang sesuai dengan nama unsur budaya di Indonesia dengan Tepat!

Pernyataan	Benar	Salah
Gambar A adalah Religius		
Gambar B adalah Kesenian		
Gambar C adalah mata pencaharian		
Gambar D adalah teknologi dan peralatan		

6. Perhatikanlah gambar di bawah ini !



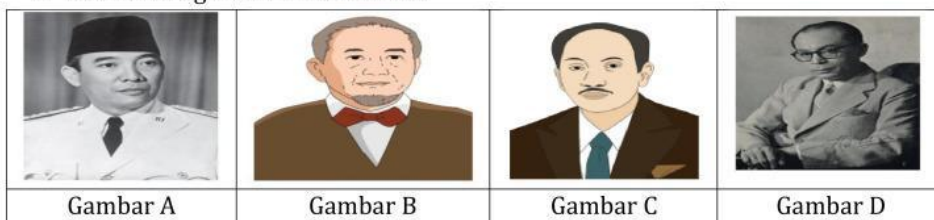
Gambar A

Gambar B

Berdasarkan gambar di atas , berilah tanda centang (✓) pada jawaban yang **benar** atau **salah** yang sesuai pernyataan di bawah ini!

Pernyataan	Benar	Salah
Gambar A merupakan peristiwa mencair		
Gambar A merupakan peristiwa menyublim		
Gambar B merupakan peristiwa menguap		
Gambar B merupakan peristiwa menyembung		

7. Perhatikan gambar di bawah ini !



Gambar A

Gambar B

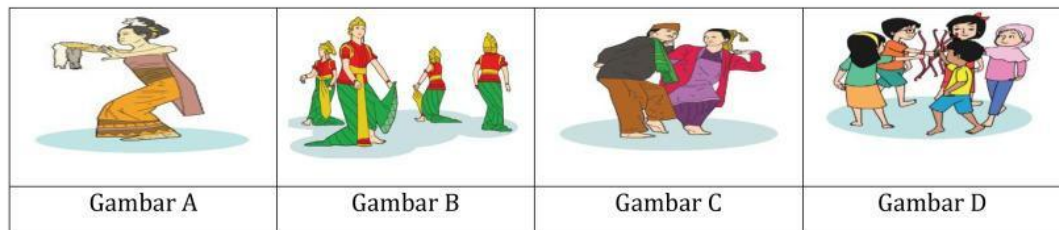
Gambar C

Gambar D

Berdasarkan gambar di atas , berilah tanda centang (✓) pada jawaban yang **benar** atau **salah** yang sesuai dengan nama tokoh berikut!

Pernyataan	Benar	Salah
Gambar A adalah Ir.soekarno		
Gambar B adalah Ahmad Soebarjo		
Gambar C adalah Muhammad Hatta		
Gambar D adalah Dr.Sutomo		

8. Perhatikan gambar dibawah ini !



Berdasarkan gambar di atas , berilah tanda centang (√) pada jawaban yang **benar** atau **salah** yang sesuai dengan pernyataan di bawah ini.

Pernyataan	Benar	Salah
Gambar A merupakan bentuk tari Tunggal		
Gambar B merupakan bentuk tari Kelompok		
Gambar C merupakan bentuk tari beramai-ramai		
Gambar D merupakan bentuk tari berpasangan		

C. MENJODOHKAN

9. Perhatikanlah gambar di bawah ini !

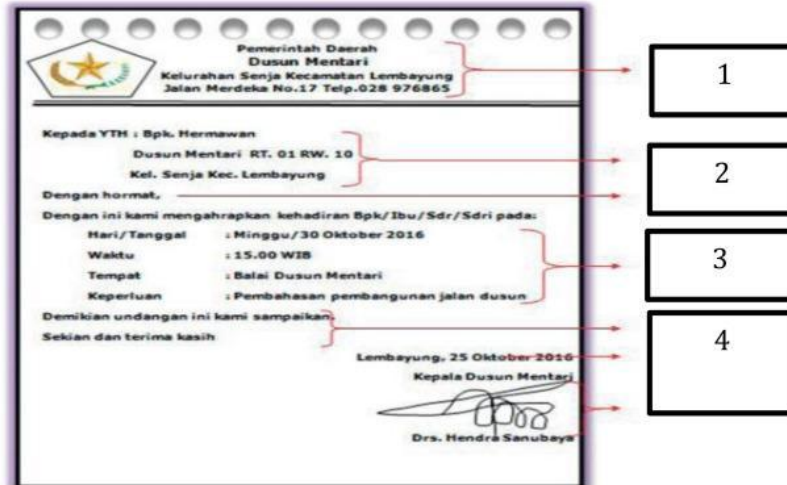


Berdasarkan gambar diatas, hubungkanlah dengan garis gambar dengan Kolompok Ras dengan tepat !

Gambar	
A	☐
B	☐
C	☐
D	☐

Ras	
☐	Ras Khusus
☐	Ras Negroid
☐	Ras Kaukasoid
☐	Ras Mongoloid

10. Perhatikan undangan berikut!

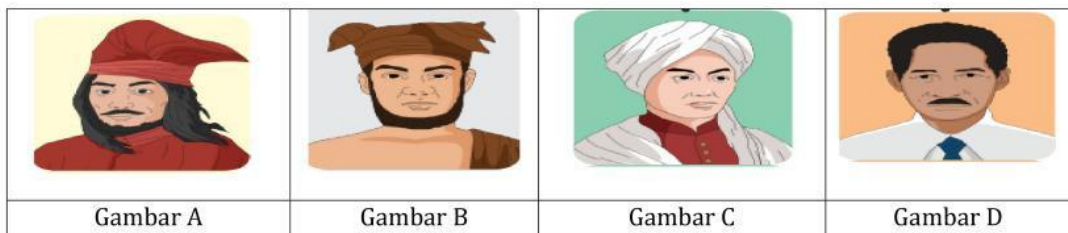


Berdasarkan gambar di atas hubungkanlah dengan garis yang sesuai dengan nomor dan bagian-bagian surat dengan tepat.

Nomor	
1	☞
2	☞
3	☞
4	☞

Bagian Surat	
☞	Isi Surat
☞	Kepala surat
☞	Penutup surat
☞	Pembuka Surat

11. Perhatikan gambar di bawah ini !




Berdasarkan gambar di atas, berilah garis penghubung antara tokoh dengan daerah yang dipimpin melawan Belanda!

Gambar	
A	☞
B	☞
C	☞
D	☞

Nama Daerah	
☞	Papua
☞	Makassar
☞	Yogyakarta
☞	Sumatra Utara

12. Perhatikan gambar di bawah ini !



Berdasarkan gambar di atas, atas hubungkanlah dengan garis yang sesuai dengan pernyataan di bawah ini.

Gambar	
A	
B	
C	
D	

Jenis seni	
	Seni Lukis
	Seni Kriya
	Seni patung
	Seni anyaman

D. ISIAN SINGKAT


Isilah titik-titik berikut ini dengan jawaban yang tepat !

13. Perhatikan undangan di bawah ini !



Bagian undangan di atas yang diberi kotak merah adalah

14. Perhatikan gambar di bawah ini !



Gambar di atas merupakan contoh dari benda

15. Perhatikan gambar di atas!



Berdasarkan gambar di atas tokoh yang membacakan teks Proklamasi Kemerdekaan Indonesia ditunjukkan pada Nomor ...

16. Perhatikan gambar di bawah ini !



Berdasarkan gambar di atas, nama karya seni tersebut adalah

E. URAIAN

Jawablah pertanyaan berikut dengan tepat!

17. Perhatikan gambar berikut !



Tuliskan 4 suku yang mendiami pulau pada gambar di atas !

Jawaban :

.....

.....

.....

.....

.....

18. Perhatikan surat undangan di bawah ini !



Tuliskan masing - masing 2 persamaan dan perbedaan surat undangan di atas!

Jawaban :

.....

.....

.....

.....

19. Perhatikan gambar di bawah ini !



Berdasarkan gambar di atas, tuliskan masing masing 2 sifat -sifat benda tersebut !

Jawaban :

.....

.....

.....

.....

20. Perhatikan gambar di bawah ini !



Tuliskan 3 contoh seni berdasarkan gambar di atas!

Jawaban :

.....

.....

.....

" Selamat Mengerjakan "