



PEMERINTAH KABUPATEN LUWU TIMUR
DINAS PENDIDIKAN
SDn No. 264 WAWONDULA

Alamat : Jl. Gunung Agung No. 01, Wawondula Kecamatan Towuti

SOAL ULANGAN TENGAH SEMESTER

Mata Pelajaran : Matematika
Kelas/Semester : V / 2
Tahun Pelajaran : 2020 / 2021

Nama Siswa :
Nomor Absen :

KD 3.5

1. Sebuah Balok adalah bangun ruang yang dibentuk oleh bangun datar

- A. persegi panjang dan lingkaran
- B. persegi panjang
- C. persegi panjang dan persegi
- D. persegi panjang dan segitiga

2. Bangun kubus mempunyai sisi sebanyak

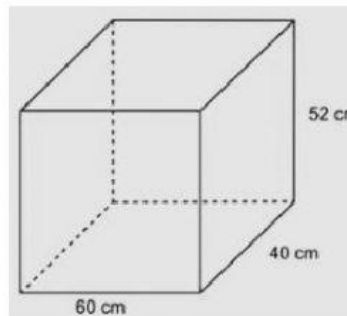
- a. 3
- b. 4
- c. 5
- d. 6

3. Balok mempunyai jumlah rusuk sebanyak

- a. 12 buah
- b. 15 buah
- c. 6 buah
- d. 8 buah

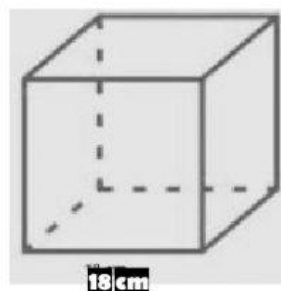
4. Hitunglah volume gambar disamping ini !

- a. 124.700 cm³
- b. 124.800 cm³
- c. 125.700 cm³
- d. 125.800 cm³



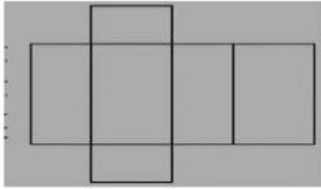
5. Hitunglah volume gambar disamping ini !

- a. 5.831 cm³
- b. 5.832 cm³
- c. 5.833 cm³
- d. 5.834 cm³

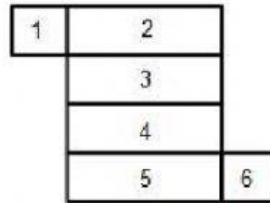


KD 3.6

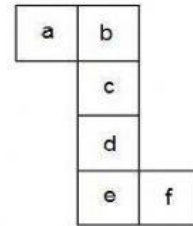
6. Jaring-jaring di bawah merupakan jaring-jaring



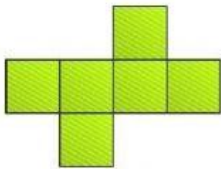
7. Perhatikan gambar disamping ini!
 Jika nomor 4 alas, maka sisi atas balok adalah nomor



8. Jaring – jaring kubus di bawah jika dibuat kubus sehingga sisi “c” sebagai atas, maka yang berada di sisi alas adalah



9. Gambar di bawah ini adalah jaring - jaring



10. Jika **D** adalah alas, maka yang menjadi tutup (atas) kubus adalah ..

