

Nilai muatan pelajaran MTK	
Paraf Guru	Paraf Ortu

NAMA :

NOMOR :

**PEMERINTAH KABUPATEN GUNUNGKIDUL
DINAS PENDIDIKAN
SD NEGERI WEDIWUTAH**

Alamat : Wediwutah, Ngeposari, Semanu, Gunungkidul 55893

**ASESMEN SUMATIF AKHIR TAHUN
TAHUN PELAJARAN 2023/2024**

Muatan Ajar : MTK
Kelas : IV (Empat)

Hari/ Tanggal : Jumat, 7 Juni 2024
Waktu : 07.30 – 09.00

A. Kerjakan soal berikut ini dengan benar!

POLA GAMBAR DAN BILANGAN

1. Perhatikan pola bilangan berikut:

2, 4, 6, 8, ...

Bilangan berikutnya adalah ...

- a) 9
- b) 10
- c) 11
- d) 12

2. Perhatikan pola bilangan berikut:

1, 3, 5, 7, ...

Bilangan berikutnya adalah ...

- a) 8
- b) 9
- c) 10
- d) 11


3. Perhatikan pola bilangan berikut:

10, 15, 20, 25, ...

Bilangan berikutnya adalah ...

- a) 30
- b) 35
- c) 40
- d) 45

4. Perhatikan pola gambar berikut:



Pola bunga selanjutnya adalah:

- a.
- b.
- c.
- d.

5. Perhatikan pola gambar berikut:



Pola bintang selanjutnya adalah:

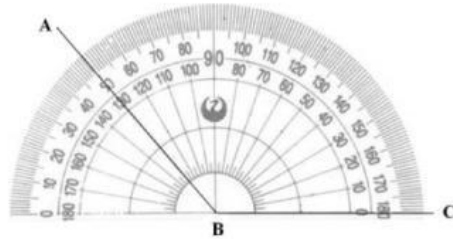
- a. ★★★★★
- b. ★★★★★★
- c. ★★★★★★★★
- d. ★★★★★

SUDUT & BANGUN DATAR

6. Aza mengukur sudut besarnya adalah 105° . Sudut tersebut dinamakan sudut . . .

- a. tumpul
- b. lancip
- c. lurus
- d. siku-siku

7. Besar sudut pada gambar tersebut adalah



- a. 130°
- b. 120°
- c. 60°
- d. 50°

8. Sudut yang kurang dari 90° dinamakan....

- a. Siku-siku
- b. Tumpul
- c. lurus
- d. lancip

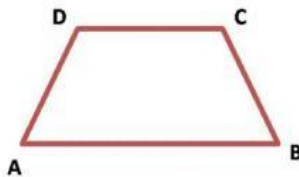
9. Sudut persegi ada

- a. 4
- b. 5
- c. 6
- d. 8

10. Jarak di antara dua garis adalah sama pada setiap titiknya dan mereka tidak akan pernah bertemu walaupun diperpanjang. Pernyataan tersebut merupakan ciri-ciri dari dua garis yang...

- a. berpotongan
- b. tegak lurus
- c. berimpit
- d. sejajar

11. Perhatikan gambar berikut!



Pasangan dua ruas garis yang sejajar adalah

- a. AB dan BC
- b. AB dan DC
- c. DC dan CB
- d. AD dan BC

12. Segiempat yang memiliki empat sisi sama panjang....


- a. Persegi
- b. Jajargenjang
- c. Belah ketupat
- d. Persegi panjang

13. Nama bangun di bawah ini adalah



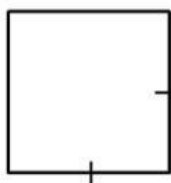
- a. Persegi
- b. Belah ketupat
- c. Jajargenjang
- d. Persegi panjang

14. Nama bangun di bawah ini adalah



- a. Belah ketupat
- b. Jajargenjang
- c. Persegi
- d. Trapesium

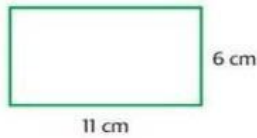
15. Perhatikan gambar berikut!



Keliling dari gambar tersebut adalah ... cm.

- a. 26 cm
- b. 39 cm
- c. 52 cm
- d. 169 cm

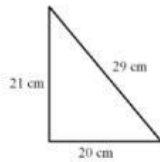
16. Perhatikan gambar berikut!



Keliling bangun tersebut adalah cm

- a. 17 cm
- b. 33 cm
- c. 34 cm
- d. 66 cm

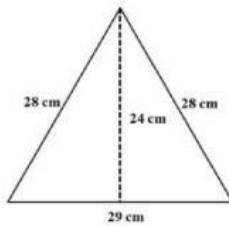
17. Perhatikan gambar berikut!



Keliling bangun tersebut adalah cm

- a. 70 cm
- b. 80 cm
- c. 210 cm
- d. 420 cm

18. Perhatikan gambar berikut!



Luas bangun tersebut adalah ... cm^2

- a. 812 cm^2
- b. 696 cm^2
- c. 406 cm^2
- d. 348 cm^2

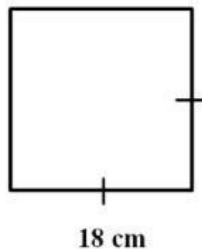
19. Perhatikan gambar berikut!



Luas bangun tersebut adalah ... cm^2

- a. 24 cm^2
- b. 48 cm^2
- c. 105 cm^2
- d. 135 cm^2

20. Perhatikan gambar berikut!



Luas bangun tersebut adalah ... cm^2

- a. 324 cm^2
- b. 162 cm^2
- c. 144 cm^2
- d. 72 cm^2

STATISTIKA

21. Perhatikan data nilai matematika kelas IV SDN Tunggaknongo berikut.

80, 70, 80, 90, 70, 90, 80, 100, 80, 60, 70, 80, 80, 90, 100, 60, 80, 70, 90, 80

Banyaknya siswa yang mendapat nilai 80 ada ...

- a. 9
- b. 8
- c. 7
- d. 4

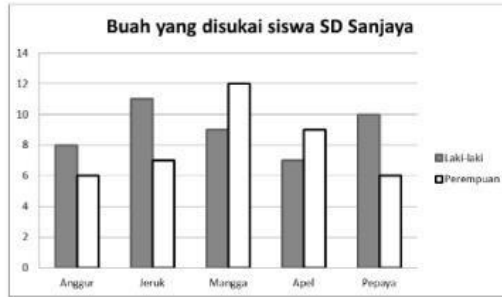
Hari	Banyaknya Pengunjung
Senin	55
Selasa	60
Rabu	80
Kamis	75
Jumat	45
Sabtu	65

- Dari tabel tersebut, informasi yang tepat adalah

Tinggi badan (cm)	Banyaknya siswa
138	6
139	5
140	11
141	10
142	8

- 

Perhatikan diagram batang berikut untuk menjawab nomor 28 – 30!







28. Jumlah siswa SD Sanjaya adalah
- a. 85 b. 90 c. 95 d. 100
29. Banyak siswa perempuan yang menyukai buah anggur dan apel adalah ...
- a. 14 b. 15 c. 16 d. 17
30. Banyak siswa laki-laki yang menyukai buah jeruk dan apel adalah ...
- a. 7 b. 11 c. 16 d. 18

VOLUME

31. Satuan volume yang baku adalah ...
- a. ml dan liter c. 1 botol B
- b. 1 botol A d. 1 botol C
32. Perhatikan gambar berikut ini!



Manakah gambar yang menunjukkan 5 satuan volume?

- a. 
- b. 
- c. 
- d. 

33. Perhatikan gambar berikut ini!



Volume kotak susu UHT menunjukkan 1000 ml. Jadi volumenya . . . liter.

- a. 0,1 liter
- b. 1 liter
- c. 10 liter
- d. 100 liter
34. Ajeng membeli 7 liter 500 ml susu. Dia mengkonsumsi 3 liter 700 ml susu di siang hari. Berapa banyak susu yang tersisa?
- a. 3.800 ml c. 4.200 ml
- b. 3.500 ml d. 7.700 ml
35. Nadin membeli 3 liter 250 ml susu pada hari Senin, 2 liter 750 ml pada hari Rabu dan 3 liter pada hari Jumat. Berapa banyak susu yang dibeli Nadin selama tiga hari?
- a. 7 liter c. 9 liter
- b. 8 liter d. 9.000 liter