

Nama:

Kelas:



WAKTU



Isilah titik titik pada kotak biru tersebut sesuai dengan gambar jam di samping!



Bangun tidur

Jarum pendek menunjukan angka

Jarum panjang menunjukan angka

Dibaca pukul

Jadi aku bangun tidur pukul



Masuk kelas

Jarum pendek menunjukan angka

Jarum panjang menunjukan angka

Dibaca pukul

Jadi aku masuk kelas pukul



Tidur malam


Jarum pendek menunjukan angka

Jarum panjang menunjukan angka


Dibaca pukul

Jadi aku tidur malam pukul

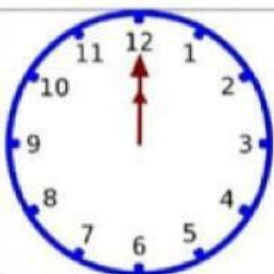
Tuliskan waktu yang ditunjukkan pada jam !




...



...



...



...













...

NAMA: _____

KELAS: _____

WAKTU

Bacalah pukul berapa yang ditunjukkan oleh jarum jam berikut!

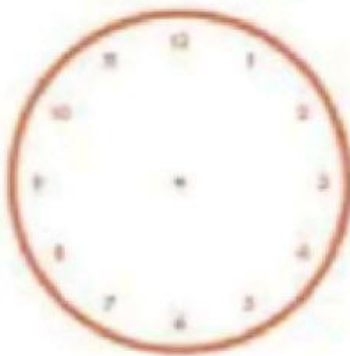
 <input data-bbox="507 528 758 607" type="text"/>	 <input data-bbox="1070 528 1321 607" type="text"/>
 <input data-bbox="507 826 758 904" type="text"/>	 <input data-bbox="1082 826 1332 904" type="text"/>
 <input data-bbox="520 1140 770 1218" type="text"/>	 <input data-bbox="1078 1140 1329 1218" type="text"/>
 <input data-bbox="507 1422 758 1500" type="text"/>	 <input data-bbox="1082 1422 1332 1500" type="text"/>
 <input data-bbox="507 1736 758 1814" type="text"/>	 <input data-bbox="1082 1736 1332 1814" type="text"/>




NAMA _____

MEMBACA JAM

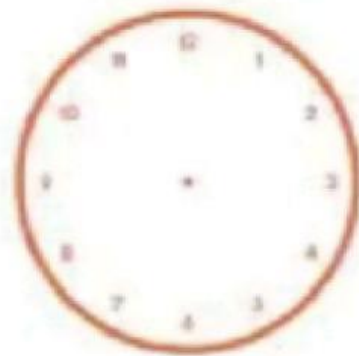
GAMBARLAH JARUM JAM UNTUK MENUNJUKKAN WAKTU YANG TEPAT



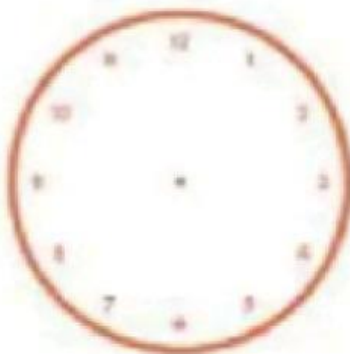
10:30




6:00



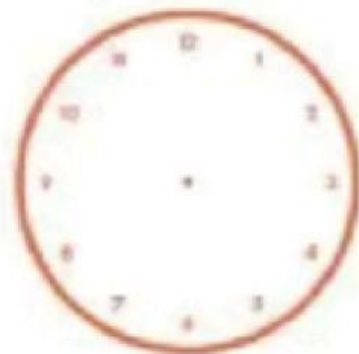
6:15 AM



3:45



12:05



2:30