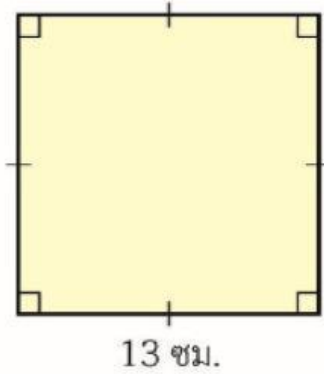


## แบบฝึกหัดปริมาตรและความจุของ ทรงสี่เหลี่ยมมุมฉาก

### (1.) แสดงวิธีทำหาพื้นที่

1)



สูตรของพื้นที่สี่เหลี่ยมจัตุรัส =

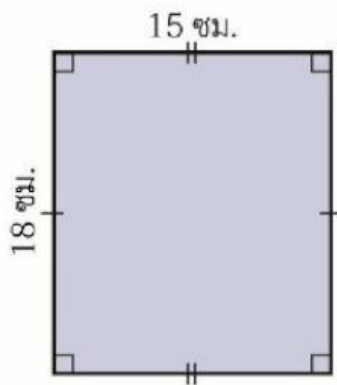
ความยาวด้าน x ความยาวด้าน

=

=

ดังนั้น สี่เหลี่ยมจัตุรัสนี้มีพื้นที่

2)



สูตรของพื้นที่สี่เหลี่ยมผืนผ้า =

ความกว้าง x ความยาวด้าน

=

=

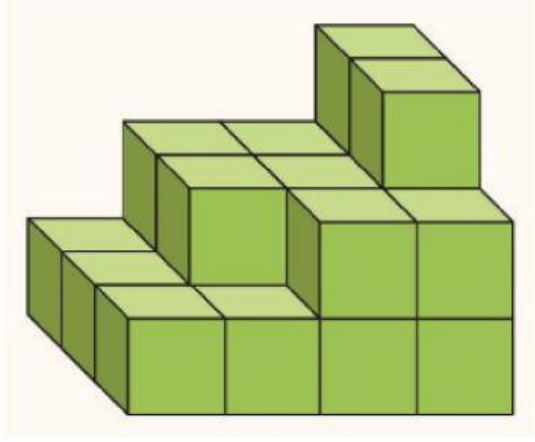
ดังนั้น สี่เหลี่ยมผืนผ้านี้มีพื้นที่

ชื่อ \_\_\_\_\_

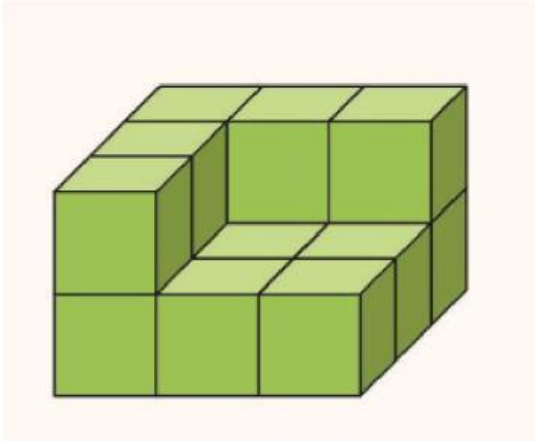
เลขที่ \_\_\_\_\_

ชั้น \_\_\_\_\_

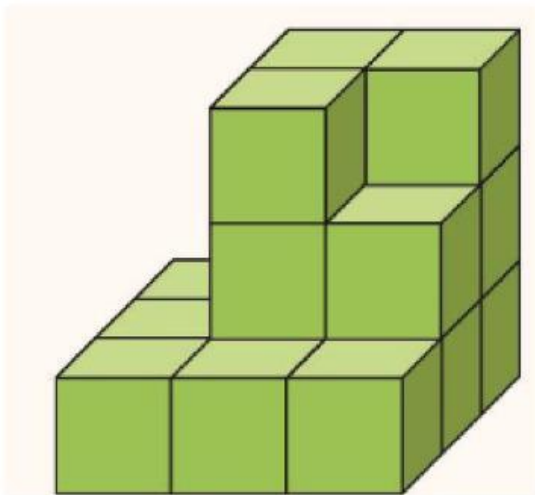
(2.) หาปริมาตร เมื่อกำหนดให้  มีปริมาตร 1 ลูกบาศก์เมตร



-----  
-----



-----  
-----



-----  
-----