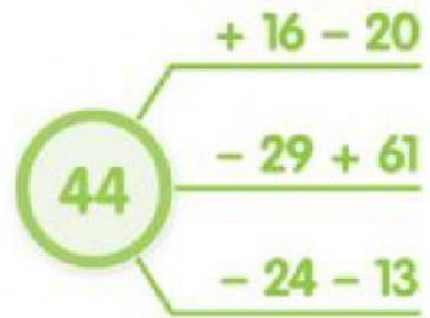
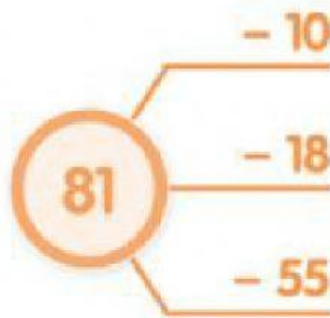
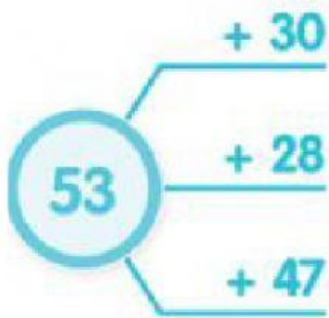


1. Atlik veiksmus. Į langelius įrašyk atsakymus.



2. Užpildyk įdomiuosius kvadratus.

10		9
	8	
		6

17		9
3	11	
13		

3. Atlik veiksmus. Į langelį įrašyk to veiksmo atsakymą. Prisimink, skaičius dauginame ir daliname iš eilės.

$3 \cdot 3 \cdot 3$
$1 \cdot 4 \cdot 9$
$10 \cdot 1 \cdot 8$

$28 : 4 : 7$
$40 : 5 : 4$
$80 : 8 : 2$