

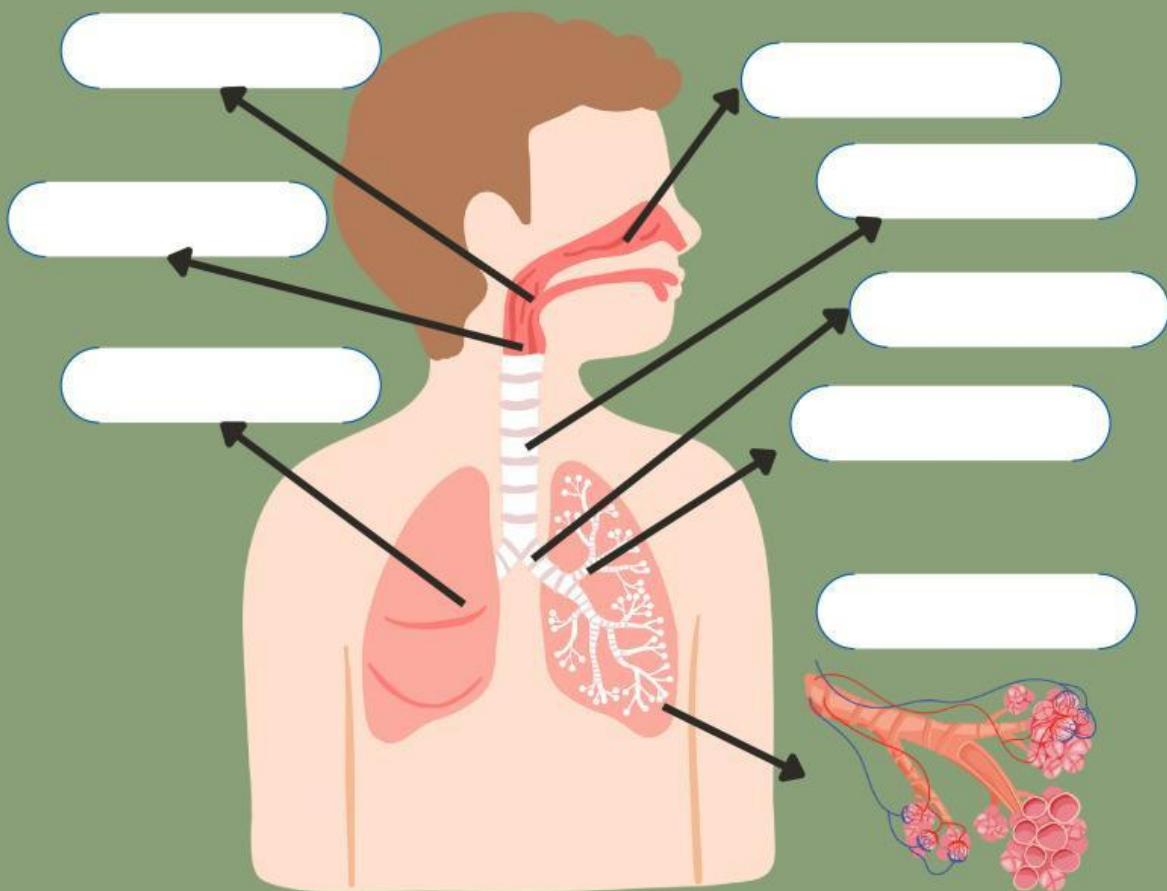
KELOMPOK _____



ORGAN ORGAN SISTEM PERNAPASAN MANUSIA

CARA KERJA

Tariklah nama organ pernapasan pada manusia sesuai dengan gambar yang ditunjuk!



nama nama organ

Cavum nasalis

Trachea

Bronchus

Pharynx

Alveolus

Esophagus

Larynx

Pulmo

Bronchiole

Kidney

bukan organ pernapasan

sistem pencernaan

sistem ekskresi

Kelompok / Kelas :

Nama Anggota :

Judul : Struktur dan Fungsi Jaringan Penyusun Organ Sistem pernapasan

Materi : Sistem pernapasan

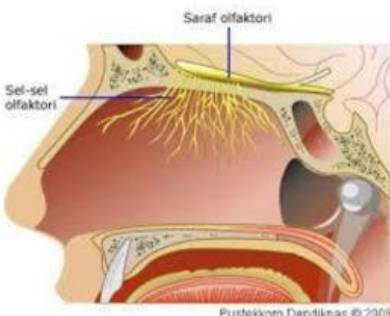
Tujuan :

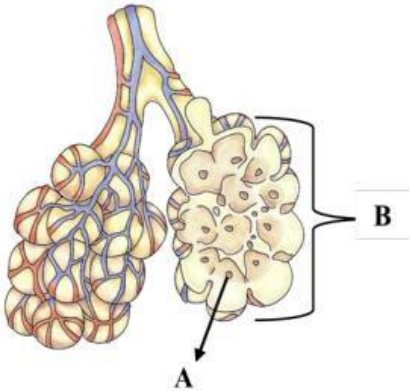
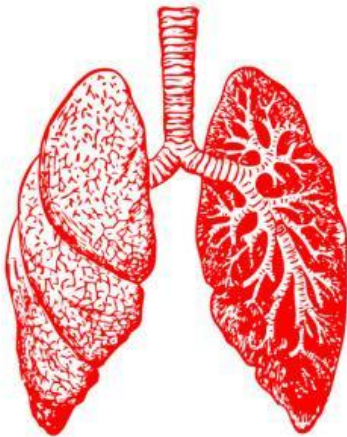
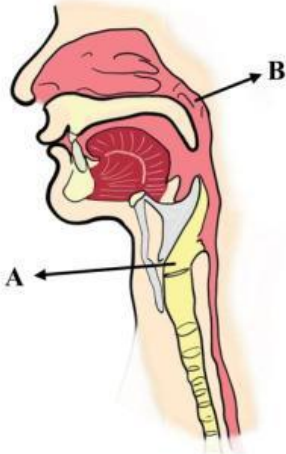
Menjelaskan keterkaitan struktur dan fungsi organ sistem saraf pada manusia melalui studi literatur dengan teliti.

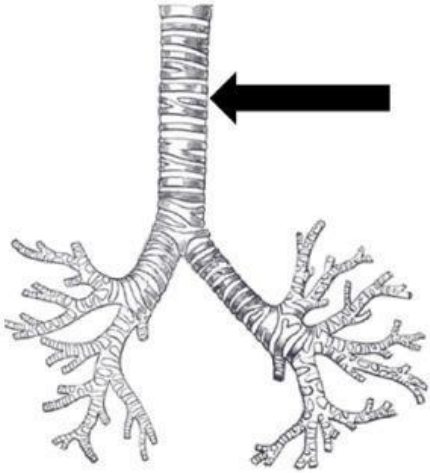
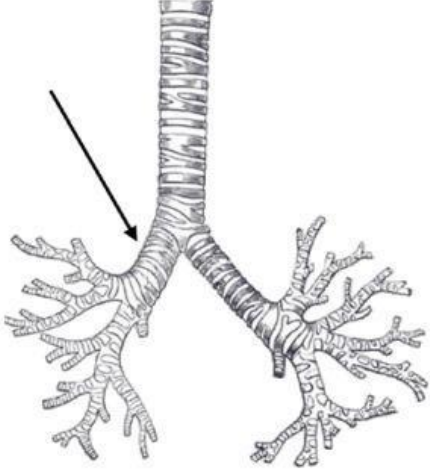
Petunjuk Kerja :

- 1) Carilah sumber bacaan mengenai struktur dan fungsi organ-organ penyusun sistem pernapasan
- 2) Tulislah hasil temuan dari literatur yang kalian dapatkan ke dalam Tabel
- 3) Jawablah pertanyaan di LKPD

Data Pengamatan

No	Nama Organ	Struktur	Fungsi
1.	 <p>.....</p>		

2.	 <p>.....</p>		
3.	 <p>.....</p>		
4.	 <p>.....</p>		

5.	 <p>.....</p>		
6.	 <p>.....</p>		

Pertanyaan

1. Berdasarkan nama-nama organ yang telah kalian cari, urutkanlah organ-organ pernapasan dari luar ke dalam!
2. Heri sedang mengendarai sepeda motor menuju rumahnya. Saat di jalan, lewat bus yang mengeluarkan asap tebal dari knalpot bus tersebut. Tak lama dari itu, Heri batuk karena menghirup asap tersebut. Mengapa Heri batuk? Jelaskan mekanisme batuk dihubungkan dengan struktur dan fungsi organ pernapasan

3. Alveolus memiliki struktur seperti buah anggur dan jumlahnya sangat banyak. Apakah fungsi dari struktur yang dimiliki oleh alveolus tersebut?

Jawaban

Kesimpulan