

Nama:

Kelas:

Sistem Pencernaan Manusia

Tuliskan organ-organ penyusun sistem pencernaan manusia di bawah ini.

A.

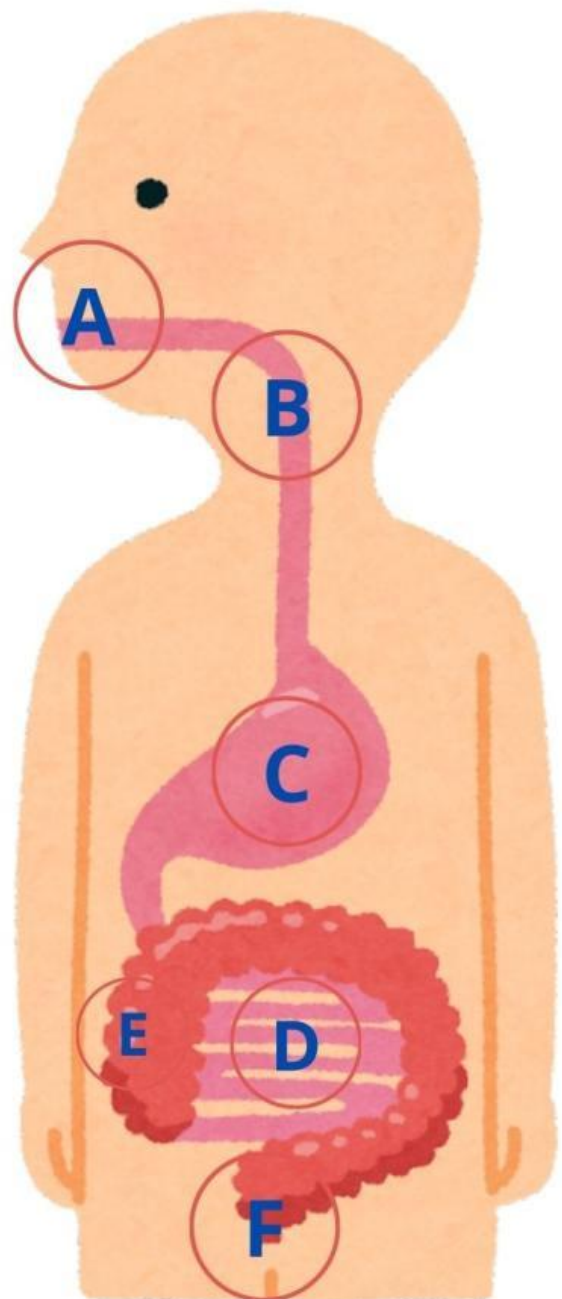
B.

C.

D.

E.

F.

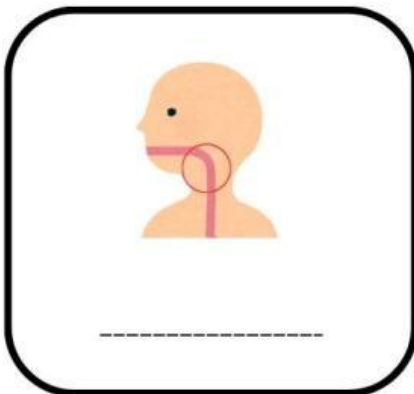


Sistem Pencernaan Manusia


Tuliskan nama serta fungsi setiap organ berdasarkan gambar yang ditunjukkan.



Fungsi:



Fungsi:



Fungsi:



Fungsi:






Fungsi:



Fungsi:

**klik link youtube untuk mempelajari
sistem pencernaan**



1, Apa yang terjadi pada makanan di dalam mulut?

2. Bagaimana gigi membantu dalam pencernaan?

3. Bagaimana cara makanan bergerak melalui kerongkongan?

4. Bagaimana otot-otot di dalam lambung membantu pencernaan?

5. Produk buangan apa yang meninggalkan tubuh melalui anus?

6. Dapatkah kamu menyebutkan organ-organ dalam sistem pencernaan secara berurutan?

7. Apa perbedaan antara pencernaan mekanis dan kimiawi?

8. Apa peran enzim dalam pencernaan?

9. berikan kesimpulanmu!